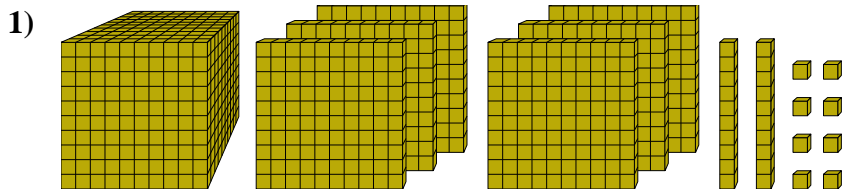




Risolvi ogni problema.

Risposte

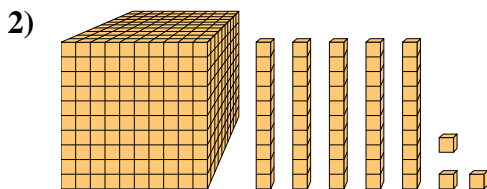


Quale cifra è nella posizione decine nel numero qui sopra?

1. _____

2. _____

3. _____

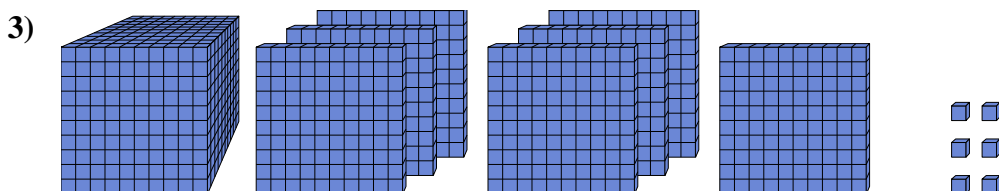


Quale cifra è nella posizione decine nel numero qui sopra?

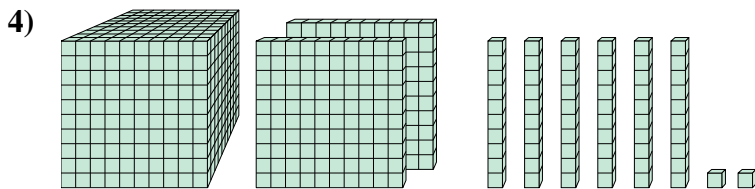
4. _____

5. _____

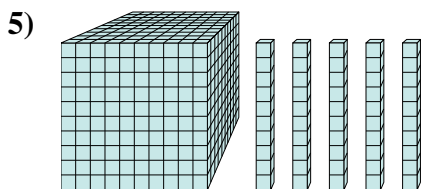
6. _____



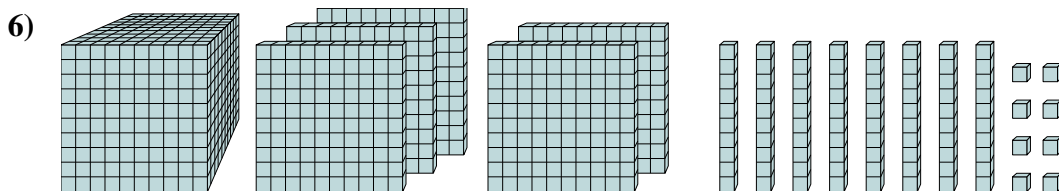
Quale cifra è nella posizione billions nel numero qui sopra?



Quale cifra è nella posizione centinaia nel numero qui sopra?



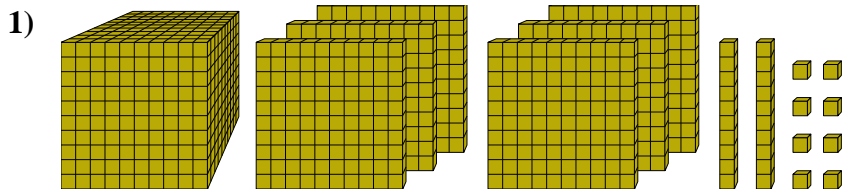
Quale cifra è nella posizione unità nel numero qui sopra?



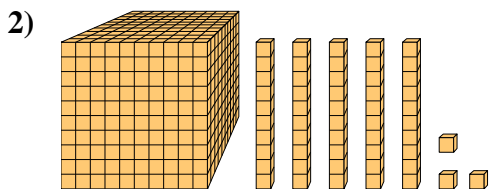
Quale cifra è nella posizione billions nel numero qui sopra?



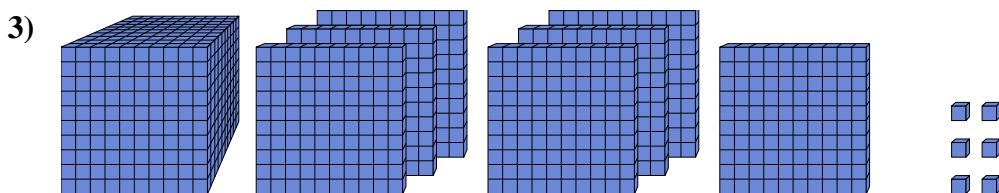
Risolvi ogni problema.



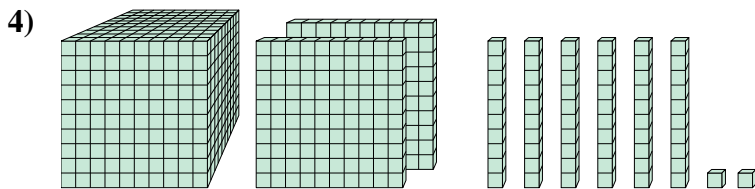
Quale cifra è nella posizione decine nel numero qui sopra?



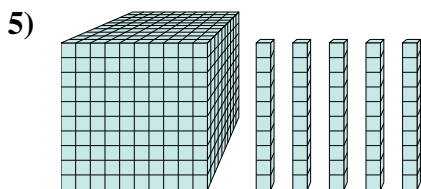
Quale cifra è nella posizione decine nel numero qui sopra?



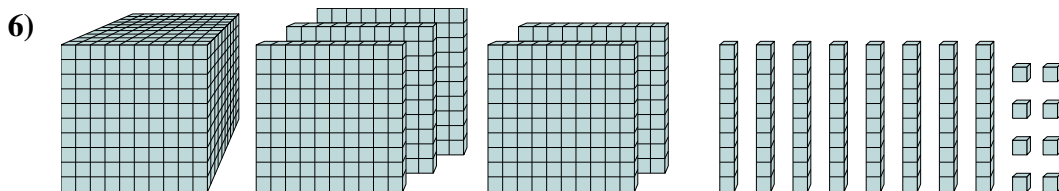
Quale cifra è nella posizione billions nel numero qui sopra?



Quale cifra è nella posizione centinaia nel numero qui sopra?



Quale cifra è nella posizione unità nel numero qui sopra?



Quale cifra è nella posizione billions nel numero qui sopra?

Risposte

1. 2

2. 5

3. 7

4. 1

5. 0

6. 5