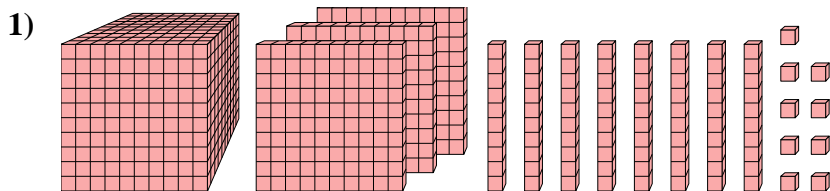




Risolvi ogni problema.

**Risposte**

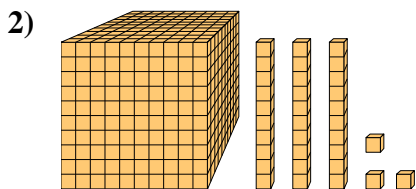


Quale cifra è nella posizione unità nel numero qui sopra?

1. \_\_\_\_\_

2. \_\_\_\_\_

3. \_\_\_\_\_

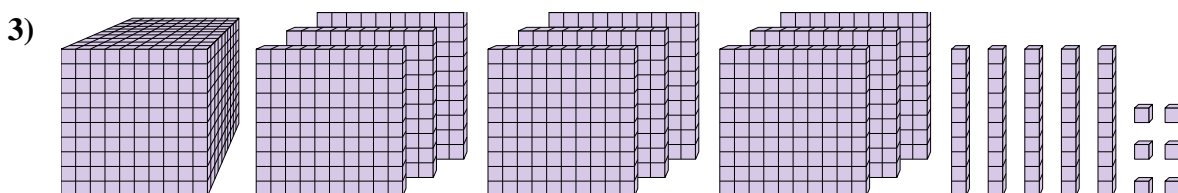


Quale cifra è nella posizione centinaia nel numero qui sopra?

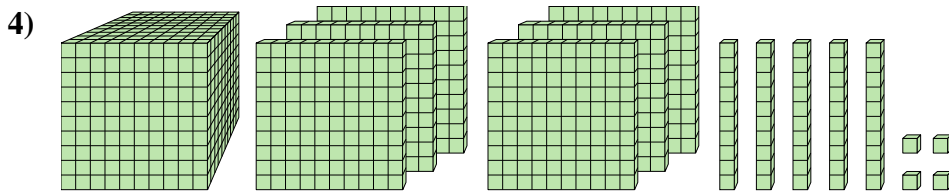
4. \_\_\_\_\_

5. \_\_\_\_\_

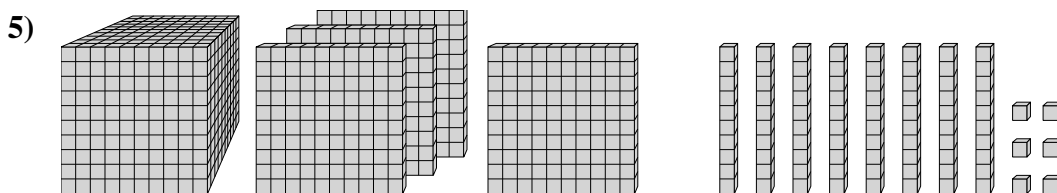
6. \_\_\_\_\_



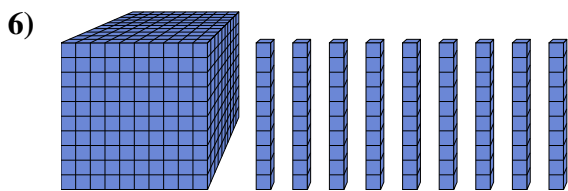
Quale cifra è nella posizione billions nel numero qui sopra?



Quale cifra è nella posizione unità nel numero qui sopra?



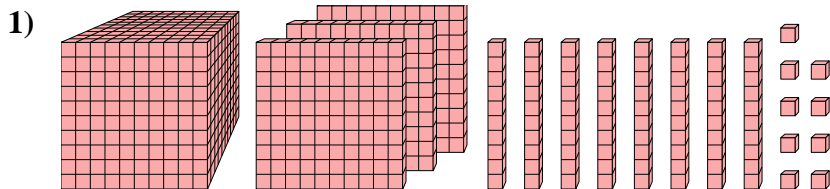
Quale cifra è nella posizione decine nel numero qui sopra?



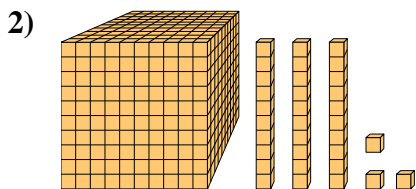
Quale cifra è nella posizione unità nel numero qui sopra?



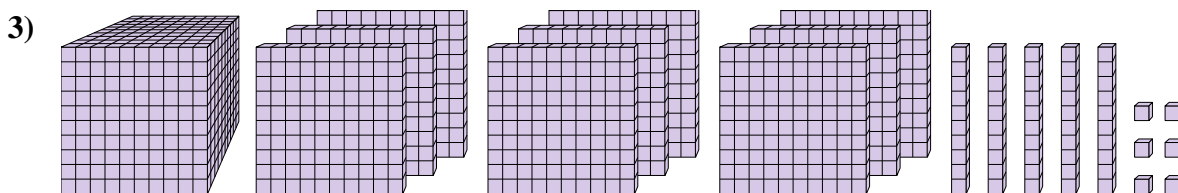
Risolvi ogni problema.



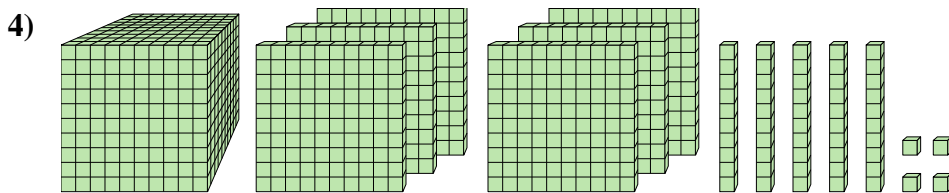
Quale cifra è nella posizione unità nel numero qui sopra?



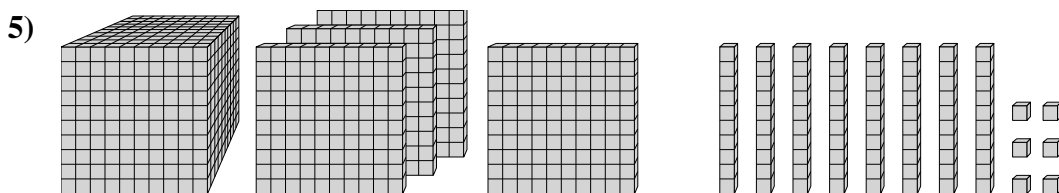
Quale cifra è nella posizione centinaia nel numero qui sopra?



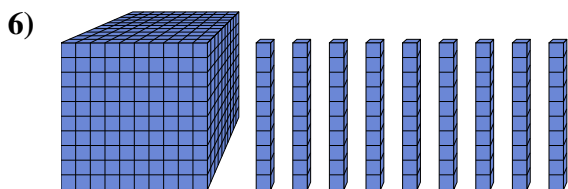
Quale cifra è nella posizione billions nel numero qui sopra?



Quale cifra è nella posizione unità nel numero qui sopra?



Quale cifra è nella posizione decine nel numero qui sopra?



Quale cifra è nella posizione unità nel numero qui sopra?

**Risposte**

1. 9

2. 1

3. 9

4. 4

5. 8

6. 0