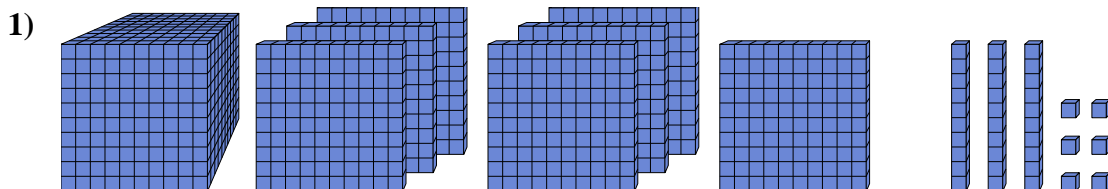




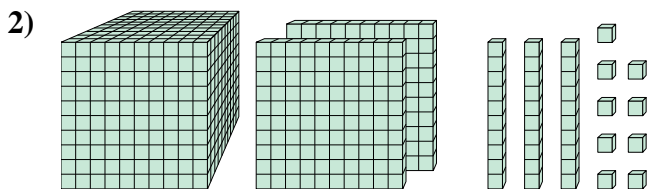
Risolvi ogni problema.

**Risposte**



Quale cifra è nella posizione unità nel numero qui sopra?

1. \_\_\_\_\_



Quale cifra è nella posizione decine nel numero qui sopra?

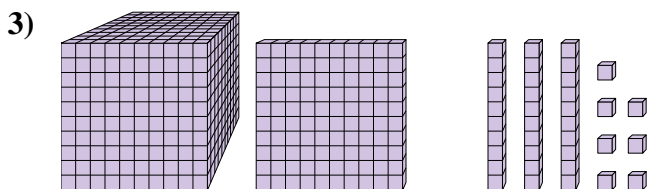
2. \_\_\_\_\_

3. \_\_\_\_\_

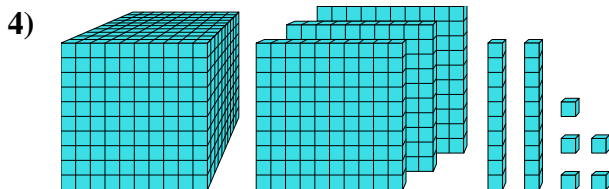
4. \_\_\_\_\_

5. \_\_\_\_\_

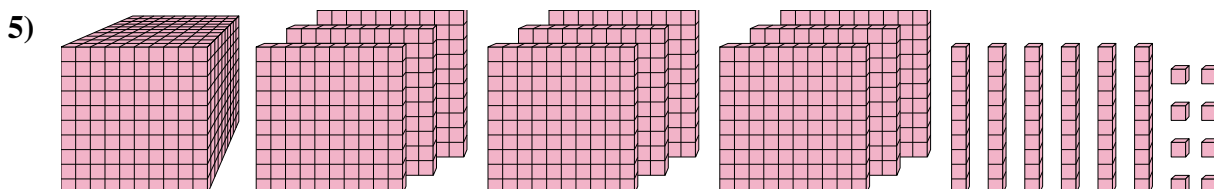
6. \_\_\_\_\_



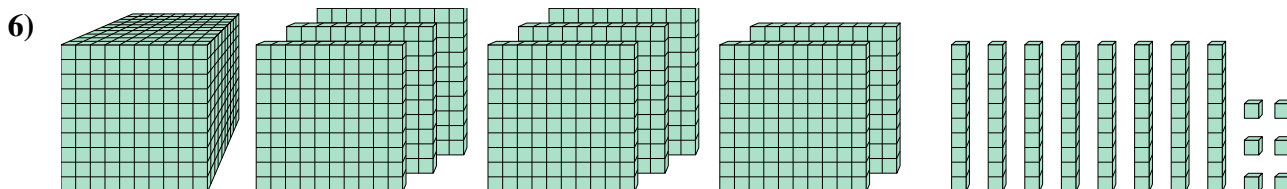
Quale cifra è nella posizione billions nel numero qui sopra?



Quale cifra è nella posizione billions nel numero qui sopra?



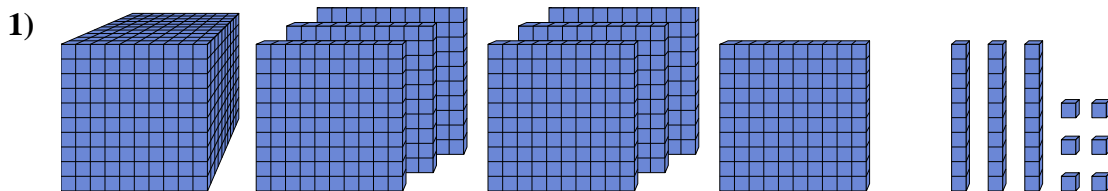
Quale cifra è nella posizione billions nel numero qui sopra?



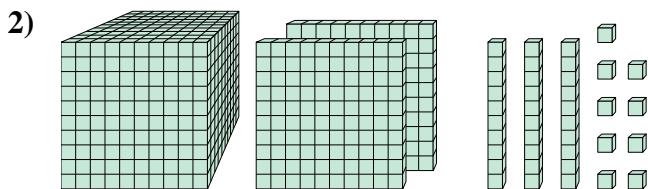
Quale cifra è nella posizione centinaia nel numero qui sopra?



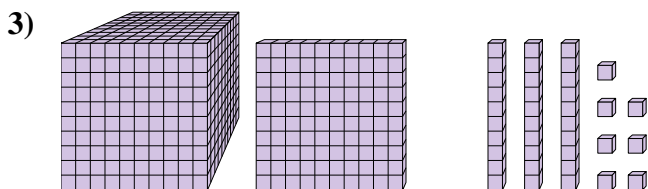
Risolvi ogni problema.



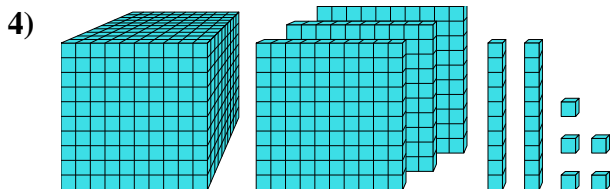
Quale cifra è nella posizione unità nel numero qui sopra?



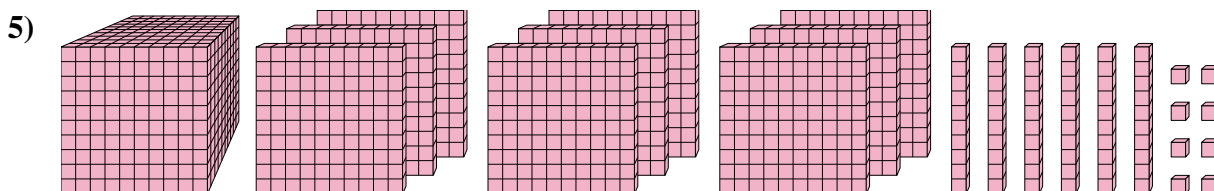
Quale cifra è nella posizione decine nel numero qui sopra?



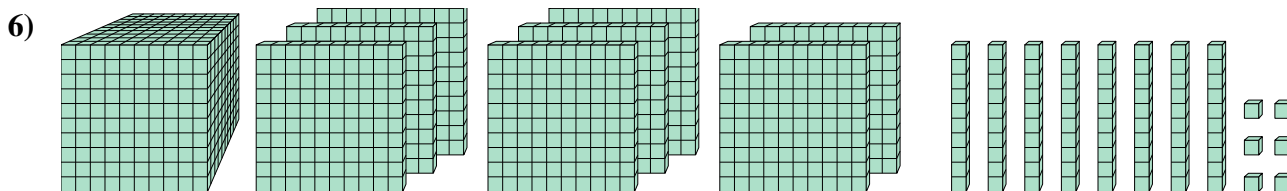
Quale cifra è nella posizione billions nel numero qui sopra?



Quale cifra è nella posizione billions nel numero qui sopra?



Quale cifra è nella posizione billions nel numero qui sopra?



Quale cifra è nella posizione centinaia nel numero qui sopra?

**Risposte**

1. 6

2. 3

3. 1

4. 3

5. 9

6. 1