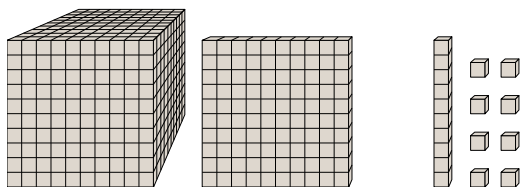




Risolvi ogni problema.

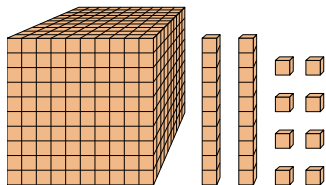
Risposte

1)



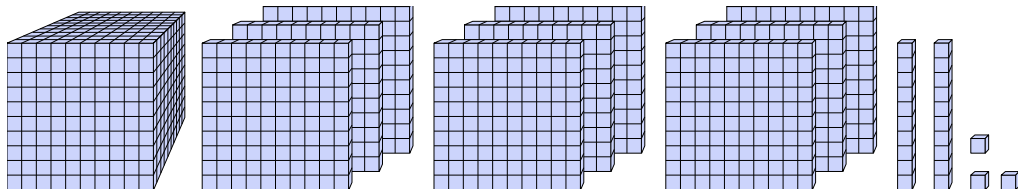
Quale cifra è nella posizione centinaia nel numero qui sopra?

2)



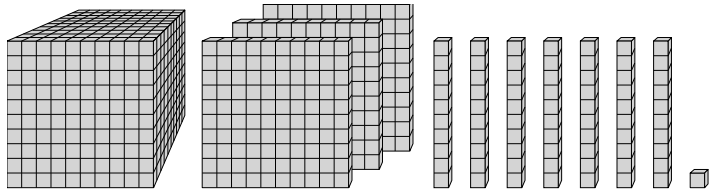
Quale cifra è nella posizione billions nel numero qui sopra?

3)



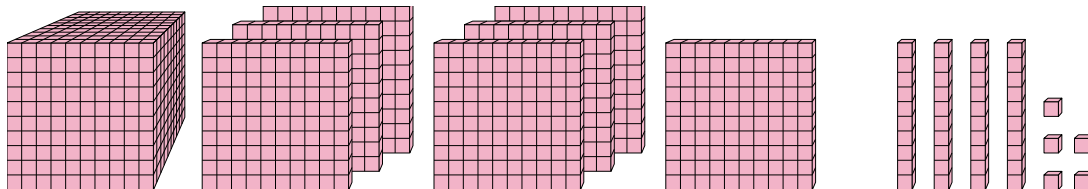
Quale cifra è nella posizione decine nel numero qui sopra?

4)



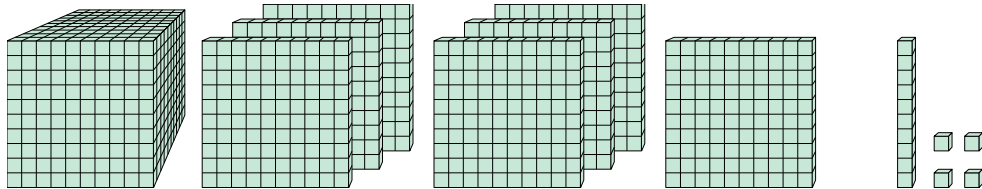
Quale cifra è nella posizione unità nel numero qui sopra?

5)



Quale cifra è nella posizione centinaia nel numero qui sopra?

6)



Quale cifra è nella posizione billions nel numero qui sopra?

1. _____

2. _____

3. _____

4. _____

5. _____

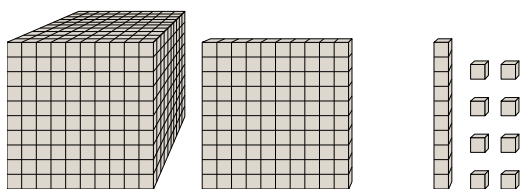
6. _____



Risolvi ogni problema.

Risposte

1)



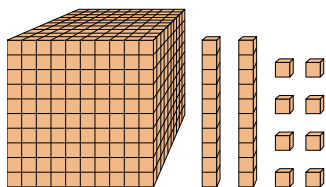
Quale cifra è nella posizione centinaia nel numero qui sopra?

1. 1

2. 0

3. 2

2)



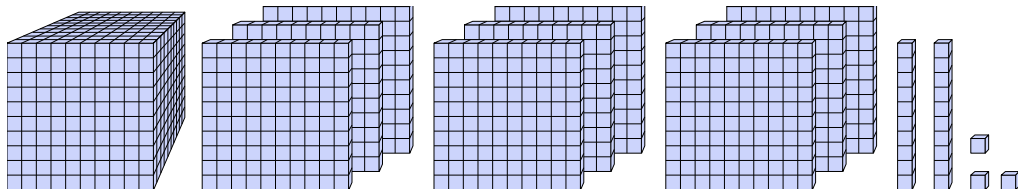
Quale cifra è nella posizione billions nel numero qui sopra?

4. 1

5. 1

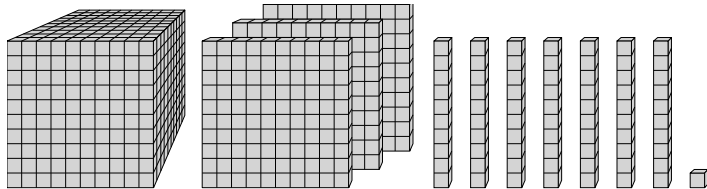
6. 7

3)



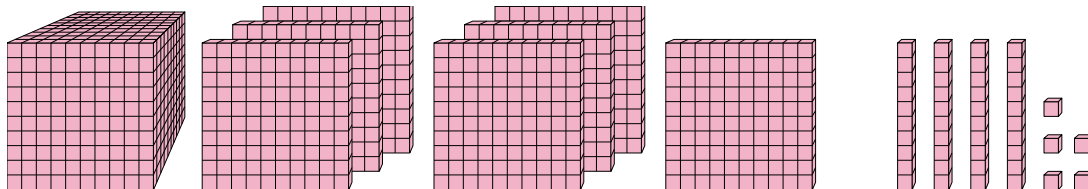
Quale cifra è nella posizione decine nel numero qui sopra?

4)



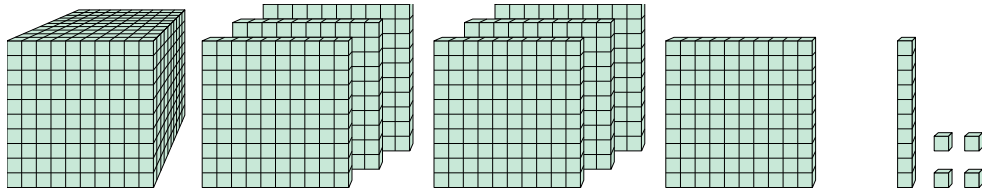
Quale cifra è nella posizione unità nel numero qui sopra?

5)



Quale cifra è nella posizione centinaia nel numero qui sopra?

6)



Quale cifra è nella posizione billions nel numero qui sopra?