


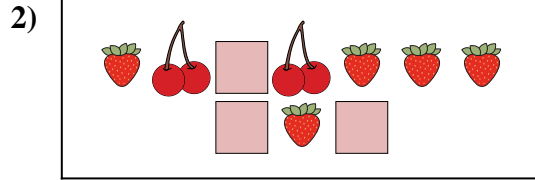


**Confronta il numero delle forme.**




Ci sono meno o meno ?

- A.
- B.



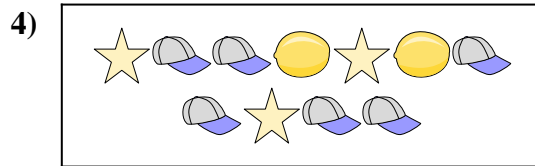
Ci sono più o più ?

- A.
- B.




Ci sono più o più ?

- A.
- B.




Ci sono più o più ?

- A.
- B.



Ci sono meno o meno ?

- A.
- B.



Ci sono meno o meno ?


- A.
- B.

**Risposte**

- 1. \_\_\_\_\_
- 2. \_\_\_\_\_
- 3. \_\_\_\_\_
- 4. \_\_\_\_\_
- 5. \_\_\_\_\_
- 6. \_\_\_\_\_

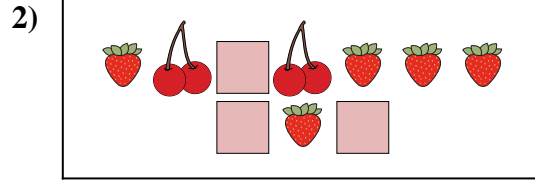


Confronta il numero delle forme.




Ci sono meno o meno ?

- A.
- B.



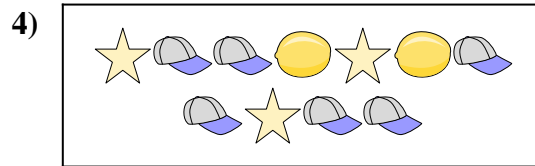
Ci sono più o più ?

- A.
- B.




Ci sono più o più ?

- A.
- B.




Ci sono più o più ?

- A.
- B.



Ci sono meno o meno ?

- A.
- B.



Ci sono meno o meno ?

- A.
- B.

**Risposte**

- 1.   **A**
- 2.   **A**
- 3.   **A**
- 4.   **B**
- 5.   **B**
- 6.   **A**