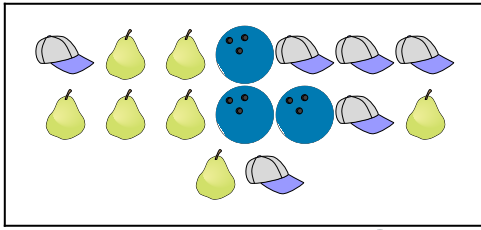






**Confronta il numero delle forme.**

**Risposte**


1)





Ci sono meno  o meno  ?

- A. 
- B. 

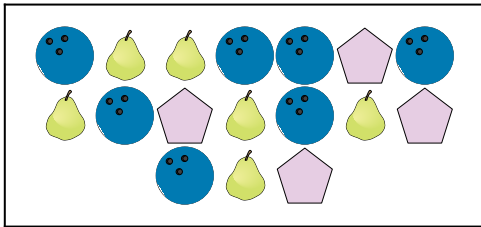
2)





Ci sono meno  o meno  ?

- A. 
- B. 

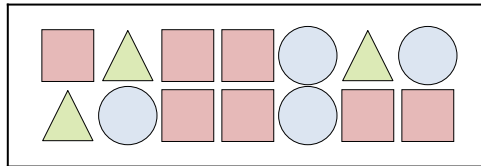
3)







Ci sono più  o più  ?

- A. 
- B. 


4)





Ci sono più  o più  ?

- A. 
- B. 


5)





Ci sono più  o più  ?

- A. 
- B. 

6)



Ci sono meno  o meno  ?

- A. 
- B. 

1. \_\_\_\_\_

2. \_\_\_\_\_

3. \_\_\_\_\_

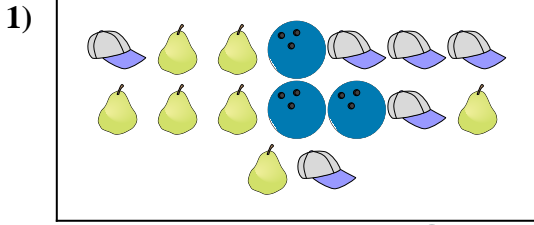
4. \_\_\_\_\_

5. \_\_\_\_\_

6. \_\_\_\_\_




**Confronta il numero delle forme.**



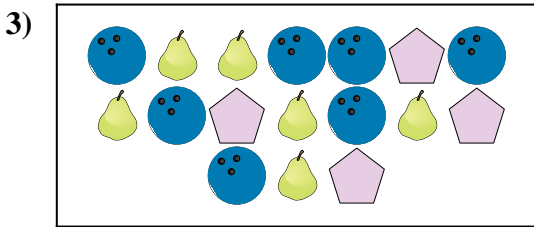
Ci sono meno o meno ?

- A.
- B.



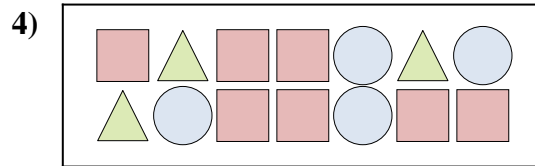
Ci sono meno o meno ?

- A.
- B.




Ci sono più o più ?

- A.
- B.




Ci sono più o più ?

- A.
- B.



Ci sono più o più ?

- A.
- B.



Ci sono meno o meno ?

- A.
- B.

**Risposte**

- 1.     **B**
- 2.     **A**
- 3.     **A**
- 4.     **A**
- 5.     **A**
- 6.     **A**