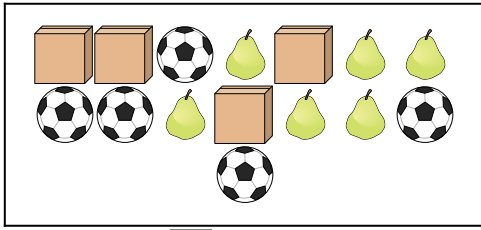






Confronta il numero delle forme.

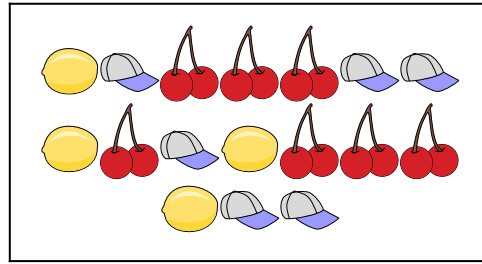
1)





Ci sono più  o più ?

- A. 
- B. 

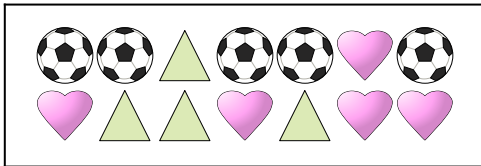
2)





Ci sono meno  o meno ?

- A. 
- B. 


3)



Ci sono meno  o meno ?

- A. 
- B. 


4)







Ci sono meno  o meno ?

- A. 
- B. 


5)





Ci sono più  o più ?

- A. 
- B. 

6)



Ci sono più  o più ?

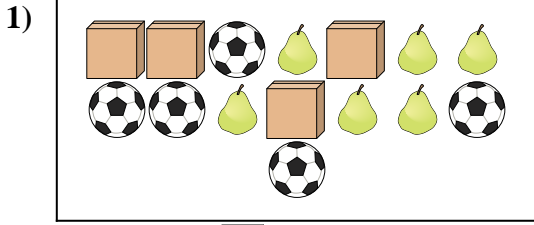
- A. 
- B. 

**Risposte**

- 1. \_\_\_\_\_
- 2. \_\_\_\_\_
- 3. \_\_\_\_\_
- 4. \_\_\_\_\_
- 5. \_\_\_\_\_
- 6. \_\_\_\_\_

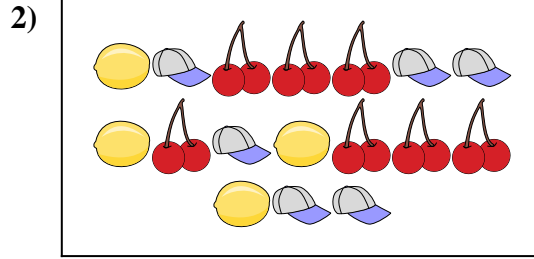


Confronta il numero delle forme.



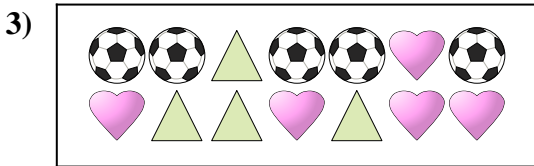
Ci sono più o più ?

- A.
- B.




Ci sono meno o meno ?

- A.
- B.




Ci sono meno o meno ?

- A.
- B.




Ci sono meno o meno ?

- A.
- B.



Ci sono più o più ?

- A.
- B.



Ci sono più o più ?

- A.
- B.

**Risposte**

- 1.     **B**
- 2.     **A**
- 3.     **A**
- 4.     **A**
- 5.     **B**
- 6.     **B**