




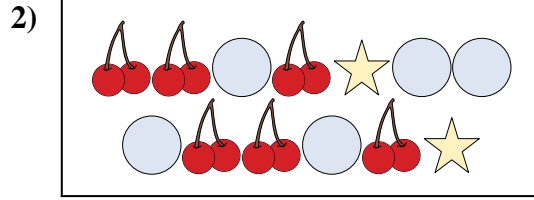
**Confronta il numero delle forme.**

**Risposte**



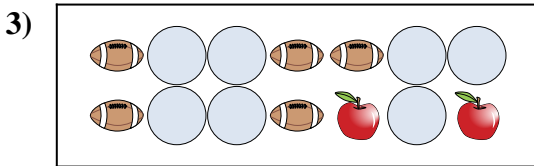
Ci sono più o più ?

- A.
- B.



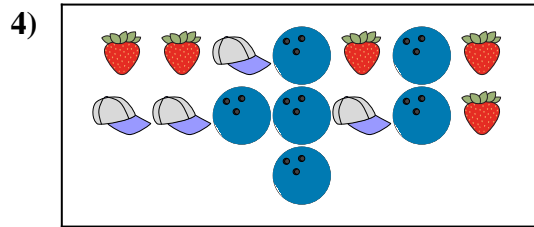
Ci sono più o più ?

- A.
- B.




Ci sono più o più ?

- A.
- B.




Ci sono più o più ?

- A.
- B.



Ci sono meno o meno ?

- A.
- B.



Ci sono meno o meno ?

- A.
- B.

1. \_\_\_\_\_

2. \_\_\_\_\_

3. \_\_\_\_\_

4. \_\_\_\_\_


5. \_\_\_\_\_

6. \_\_\_\_\_



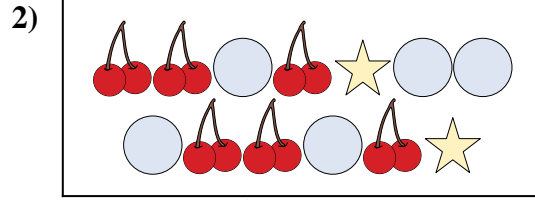
Confronta il numero delle forme.

**Risposte**



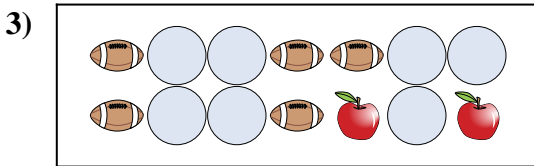
Ci sono più o più ?

- A.
- B.



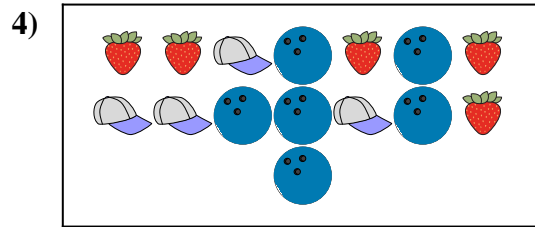
Ci sono più o più ?

- A.
- B.




Ci sono più o più ?

- A.
- B.




Ci sono più o più ?

- A.
- B.



Ci sono meno o meno ?

- A.
- B.



Ci sono meno o meno ?


- A.
- B.

- 1.     **B**
- 2.     **A**
- 3.     **A**
- 4.     **B**
- 5.     **B**
- 6.     **B**




**Confronta il numero delle forme.**


**Risposte**




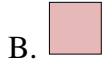
Ci sono più o più ?



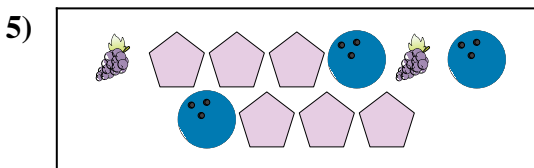
Ci sono più o più ?




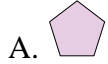
Ci sono meno o meno ?



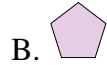
Ci sono meno o meno ?



Ci sono meno o meno ?




Ci sono meno o meno ?




1. \_\_\_\_\_
2. \_\_\_\_\_
3. \_\_\_\_\_
4. \_\_\_\_\_
5. \_\_\_\_\_
6. \_\_\_\_\_




**Confronta il numero delle forme.**




Ci sono più o più ?



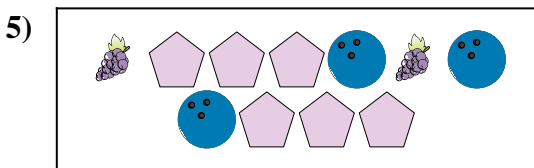
Ci sono più o più ?




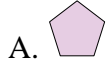
Ci sono meno o meno ?



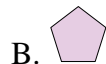
Ci sono meno o meno ?



Ci sono meno o meno ?



Ci sono meno o meno ?




**Risposte**

- 1.     **B**
- 2.     **B**
- 3.     **A**
- 4.     **A**
- 5.     **B**
- 6.     **B**




Confronta il numero delle forme.

**Risposte**



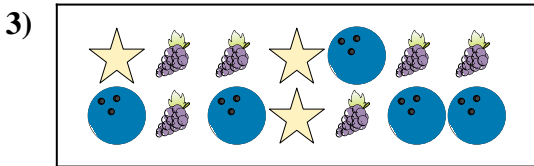
Ci sono più o più ?

- A.
- B.




Ci sono meno o meno ?

- A.
- B.




Ci sono meno o meno ?

- A.
- B.



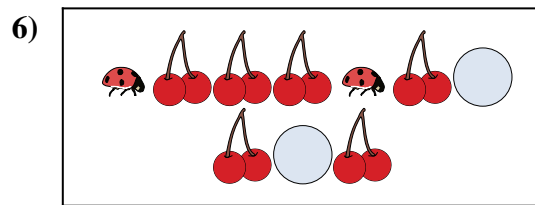
Ci sono meno o meno ?

- A.
- B.



Ci sono più o più ?

- A.
- B.



Ci sono meno o meno ?

- A.
- B.

1. \_\_\_\_\_

2. \_\_\_\_\_

3. \_\_\_\_\_

4. \_\_\_\_\_


5. \_\_\_\_\_

6. \_\_\_\_\_



Confronta il numero delle forme.


**Risposte**



Ci sono più o più ?

A.

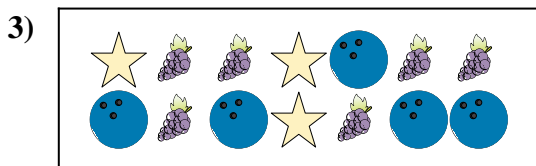
B.



Ci sono meno o meno ?

A.


B.



Ci sono meno o meno ?

A.


B.



Ci sono meno o meno ?

A.

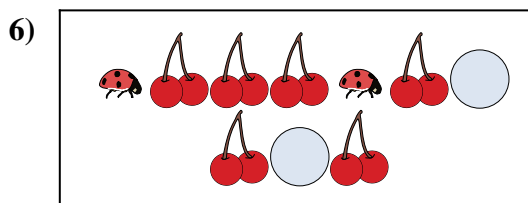
B.



Ci sono più o più ?

A.

B.



Ci sono meno o meno ?

A.

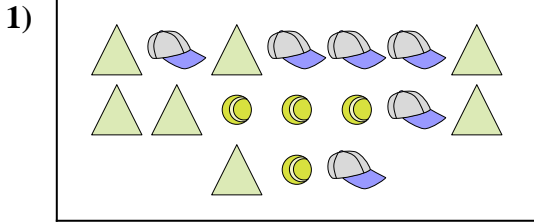
B.

1.     **B**
2.     **B**
3.     **B**
4.     **B**
5.     **A**
6.     **B**



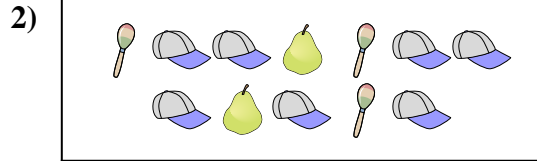
Confronta il numero delle forme.

**Risposte**




Ci sono più o più ?

- A.
- B.



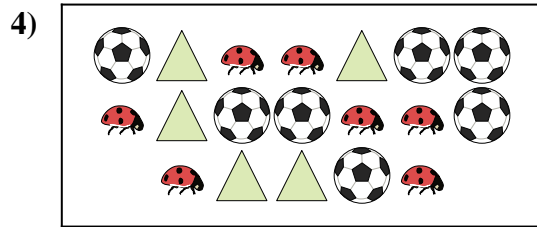
Ci sono meno o meno ?

- A.
- B.



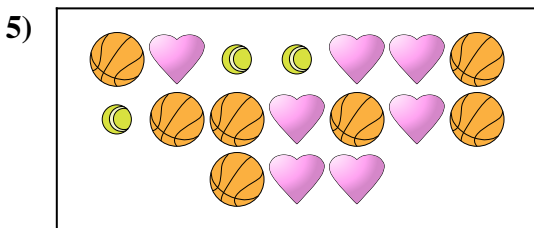
Ci sono meno o meno ?

- A.
- B.




Ci sono meno o meno ?

- A.
- B.



Ci sono meno o meno ?

- A.
- B.



Ci sono meno o meno ?

- A.
- B.

1. \_\_\_\_\_

2. \_\_\_\_\_

3. \_\_\_\_\_

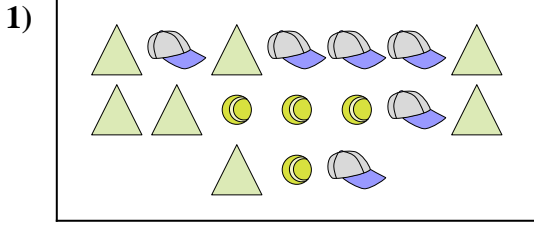
4. \_\_\_\_\_

5. \_\_\_\_\_

6. \_\_\_\_\_




**Confronta il numero delle forme.**




Ci sono più o più ?

- A.
- B.



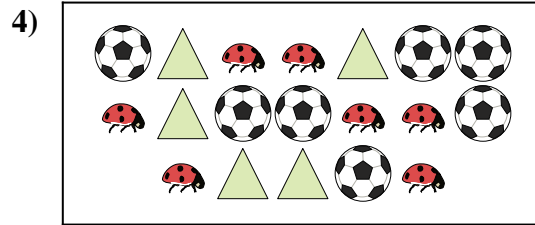
Ci sono meno o meno ?

- A.
- B.




Ci sono meno o meno ?

- A.
- B.




Ci sono meno o meno ?

- A.
- B.



Ci sono meno o meno ?

- A.
- B.



Ci sono meno o meno ?

- A.
- B.

**Risposte**


- 1.     **A**
- 2.     **A**
- 3.     **A**
- 4.     **A**
- 5.     **A**
- 6.     **A**





Confronta il numero delle forme.


**Risposte**



Ci sono più o più ?

A.


B.



Ci sono più o più ?

A.


B.



Ci sono meno o meno ?

A.


B.



Ci sono più o più ?

A.

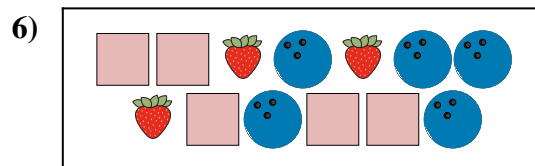
B.



Ci sono meno o meno ?

A.

B.



Ci sono più o più ?


A.

B.

1. \_\_\_\_\_
2. \_\_\_\_\_
3. \_\_\_\_\_
4. \_\_\_\_\_
5. \_\_\_\_\_
6. \_\_\_\_\_




Confronta il numero delle forme.



Ci sono più o più ?

A.


B.



Ci sono più o più ?

A.


B.



Ci sono meno o meno ?

A.


B.



Ci sono più o più ?

A.

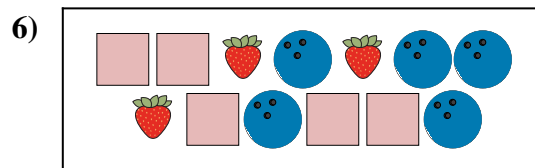
B.



Ci sono meno o meno ?

A.

B.



Ci sono più o più ?

A.

B.

**Risposte**

1.     **A**    

2.     **B**    

3.     **B**    


4.     **B**    

5.     **A**    

6.     **B**

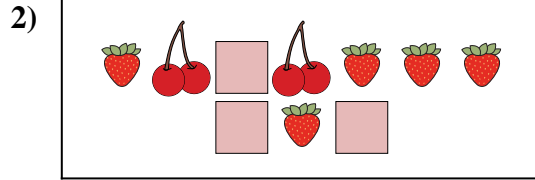


**Confronta il numero delle forme.**




Ci sono meno o meno ?

- A.
- B.



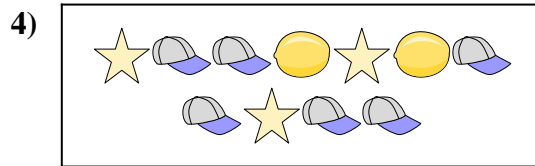
Ci sono più o più ?

- A.
- B.




Ci sono più o più ?

- A.
- B.




Ci sono più o più ?

- A.
- B.



Ci sono meno o meno ?

- A.
- B.



Ci sono meno o meno ?


- A.
- B.

**Risposte**

- 1. \_\_\_\_\_
- 2. \_\_\_\_\_
- 3. \_\_\_\_\_
- 4. \_\_\_\_\_
- 5. \_\_\_\_\_
- 6. \_\_\_\_\_

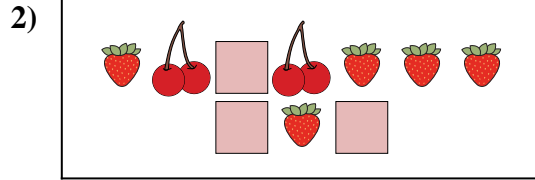


**Confronta il numero delle forme.**




Ci sono meno o meno ?

- A.
- B.



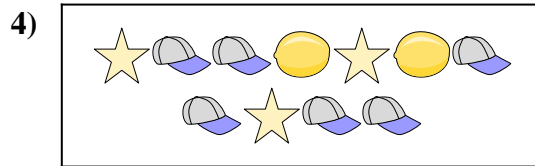
Ci sono più o più ?

- A.
- B.




Ci sono più o più ?

- A.
- B.




Ci sono più o più ?

- A.
- B.



Ci sono meno o meno ?

- A.
- B.



Ci sono meno o meno ?

- A.
- B.

**Risposte**

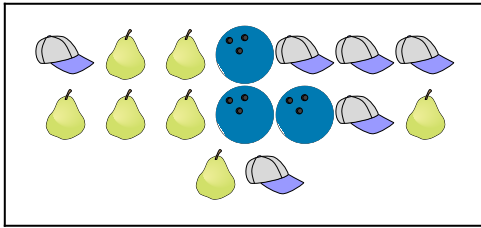
- 1.   **A**
- 2.   **A**
- 3.   **A**
- 4.   **B**
- 5.   **B**
- 6.   **A**





Confronta il numero delle forme.

**Risposte**


1)





Ci sono meno  o meno  ?

- A. 
- B. 

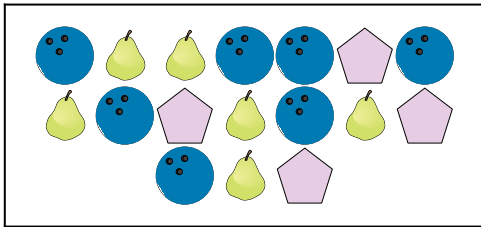
2)





Ci sono meno  o meno  ?

- A. 
- B. 

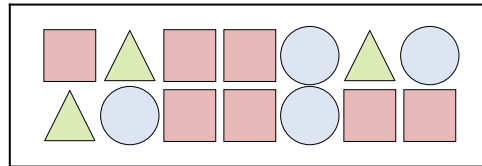
3)







Ci sono più  o più  ?

- A. 
- B. 


4)





Ci sono più  o più  ?

- A. 
- B. 


5)





Ci sono più  o più  ?

- A. 
- B. 

6)



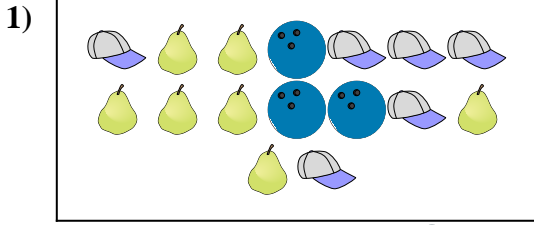
Ci sono meno  o meno  ?

- A. 
- B. 

- 1. \_\_\_\_\_
- 2. \_\_\_\_\_
- 3. \_\_\_\_\_
- 4. \_\_\_\_\_
- 5. \_\_\_\_\_
- 6. \_\_\_\_\_




**Confronta il numero delle forme.**



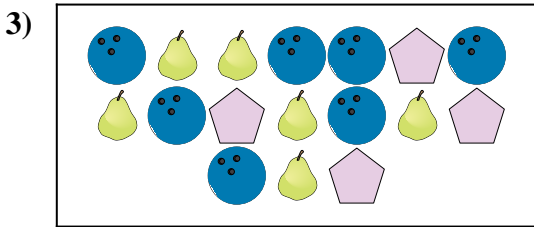
Ci sono meno o meno ?

- A.
- B.



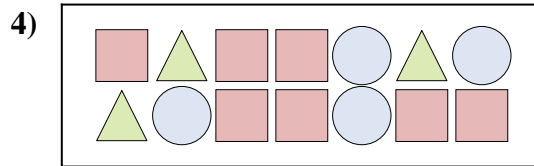
Ci sono meno o meno ?

- A.
- B.




Ci sono più o più ?

- A.
- B.




Ci sono più o più ?

- A.
- B.



Ci sono più o più ?

- A.
- B.



Ci sono meno o meno ?

- A.
- B.

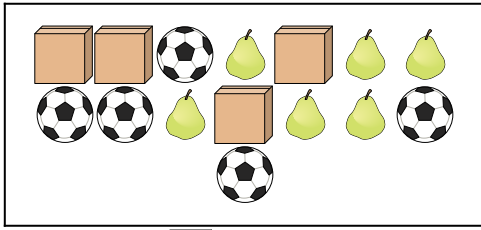
**Risposte**

- 1.     **B**
- 2.     **A**
- 3.     **A**
- 4.     **A**
- 5.     **A**
- 6.     **A**



Confronta il numero delle forme.

1)

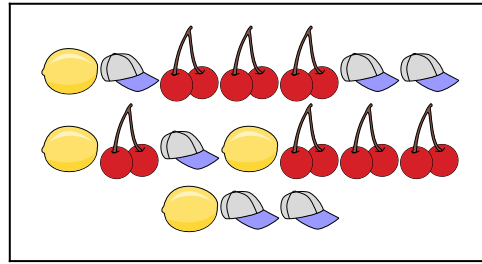


Ci sono più  o più ?

A. 


B. 

2)

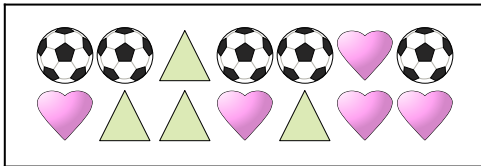




Ci sono meno  o meno ?


A. 

B. 

3)

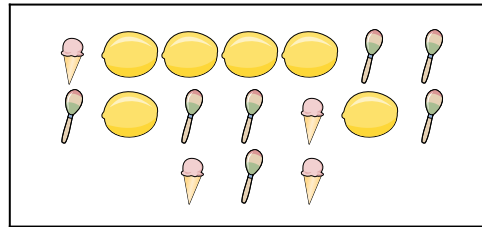


Ci sono meno  o meno ?

A. 

B. 

4)






Ci sono meno  o meno ?

A. 

B. 

5)




Ci sono più  o più ?

A. 

B. 

6)



Ci sono più  o più ?

A. 

B. 

**Risposte**

1. \_\_\_\_\_

2. \_\_\_\_\_

3. \_\_\_\_\_

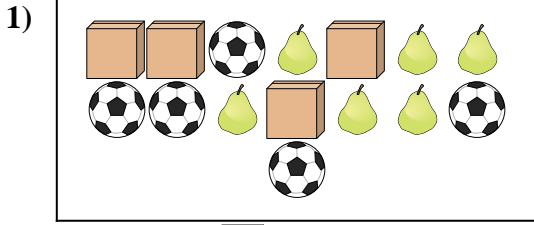
4. \_\_\_\_\_

5. \_\_\_\_\_

6. \_\_\_\_\_

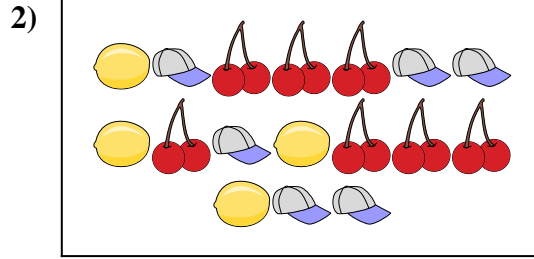


Confronta il numero delle forme.



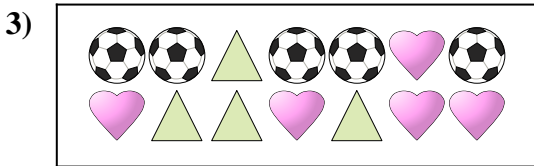
Ci sono più o più ?

- A.
- B.




Ci sono meno o meno ?

- A.
- B.




Ci sono meno o meno ?

- A.
- B.




Ci sono meno o meno ?

- A.
- B.



Ci sono più o più ?

- A.
- B.



Ci sono più o più ?

- A.
- B.


**Risposte**

- 1.     **B**
- 2.     **A**
- 3.     **A**
- 4.     **A**
- 5.     **B**
- 6.     **B**






**Confronta il numero delle forme.**



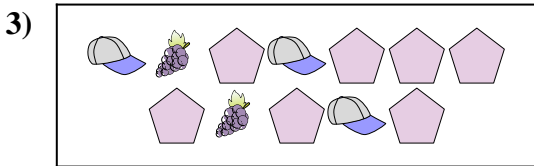
Ci sono più o più ?

- A.
- B.



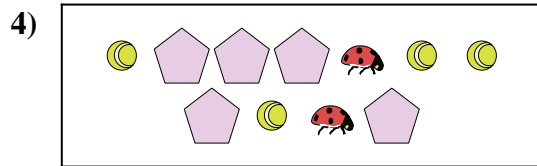
Ci sono meno o meno ?

- A.
- B.



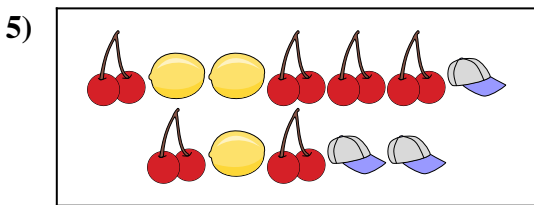
Ci sono meno o meno ?

- A.
- B.



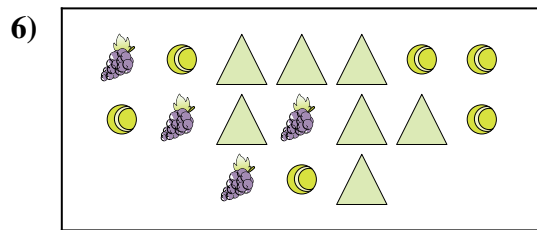
Ci sono più o più ?

- A.
- B.



Ci sono meno o meno ?

- A.
- B.



Ci sono più o più ?


- A.
- B.

**Risposte**

- 1. \_\_\_\_\_
- 2. \_\_\_\_\_
- 3. \_\_\_\_\_
- 4. \_\_\_\_\_
- 5. \_\_\_\_\_
- 6. \_\_\_\_\_




**Confronta il numero delle forme.**



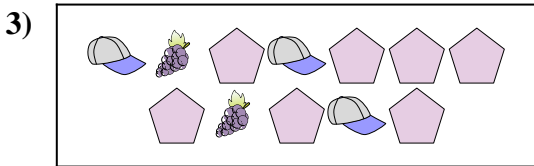
Ci sono più o più ?

- A.
- B.



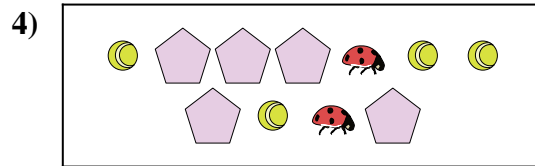
Ci sono meno o meno ?

- A.
- B.



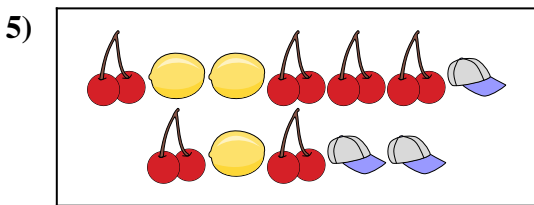
Ci sono meno o meno ?

- A.
- B.



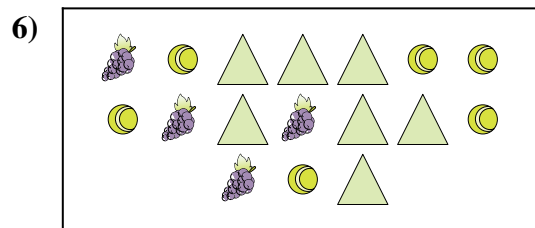
Ci sono più o più ?

- A.
- B.



Ci sono meno o meno ?

- A.
- B.



Ci sono più o più ?

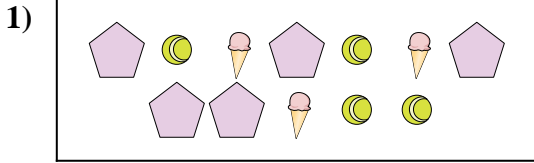
- A.
- B.

**Risposte**

- 1.   **A**
- 2.   **A**
- 3.   **B**
- 4.   **B**
- 5.   **B**
- 6.   **B**




**Confronta il numero delle forme.**



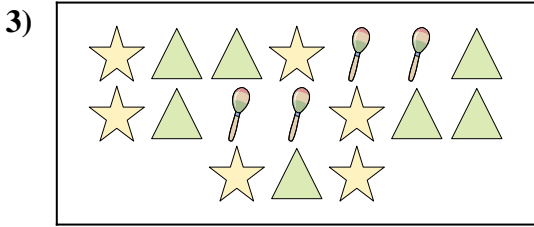
Ci sono meno o meno ?

- A.
- B.




Ci sono più o più ?

- A.
- B.




Ci sono meno o meno ?

- A.
- B.



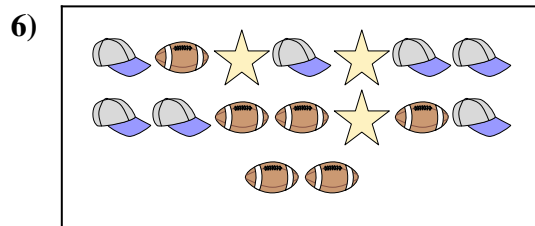
Ci sono meno o meno ?

- A.
- B.



Ci sono meno o meno ?

- A.
- B.



Ci sono meno o meno ?

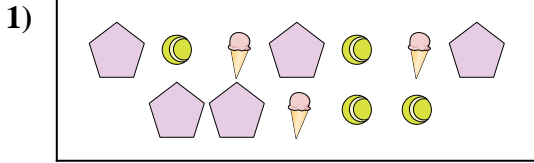
- A.
- B.

**Risposte**

- 1. \_\_\_\_\_
- 2. \_\_\_\_\_
- 3. \_\_\_\_\_
- 4. \_\_\_\_\_
- 5. \_\_\_\_\_
- 6. \_\_\_\_\_




**Confronta il numero delle forme.**



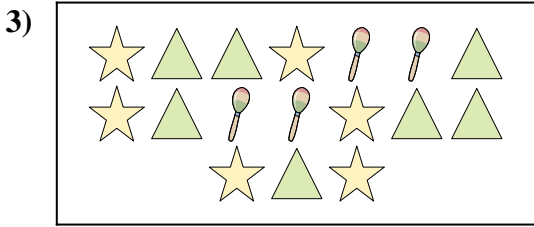
Ci sono meno o meno ?

- A.
- B.




Ci sono più o più ?

- A.
- B.




Ci sono meno o meno ?

- A.
- B.



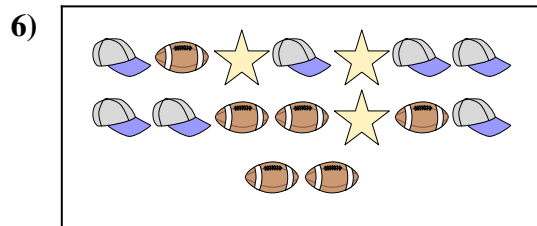
Ci sono meno o meno ?

- A.
- B.



Ci sono meno o meno ?

- A.
- B.



Ci sono meno o meno ?

- A.
- B.

**Risposte**

- 1.   **A**
- 2.   **A**
- 3.   **B**
- 4.   **B**
- 5.   **A**
- 6.   **B**