

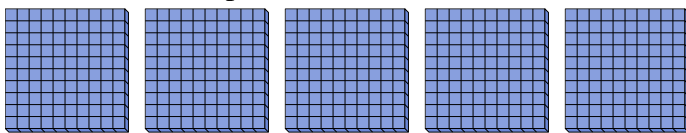


Usa i gruppi per rispondere ad ogni domanda.

Risposte

1) a. Quanti gruppi da 100 ci sono?

b. Quanti blocchi piccoli ci sono in tutto?



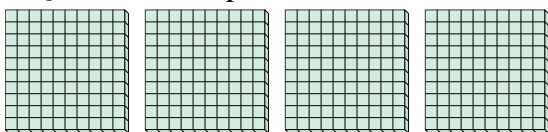
1. _____

2. _____

3. _____

2) a. Quanti gruppi da 100 ci sono?

b. Quanti blocchi piccoli ci sono in tutto?



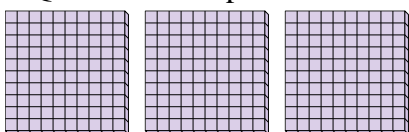
4. _____

5. _____

6. _____

3) a. Quanti gruppi da 100 ci sono?

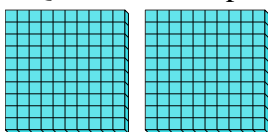
b. Quanti blocchi piccoli ci sono in tutto?



7. _____


4) a. Quanti gruppi da 100 ci sono?

b. Quanti blocchi piccoli ci sono in tutto?




5) a. Quanti gruppi da 100 ci sono?

b. Quanti blocchi piccoli ci sono in tutto?



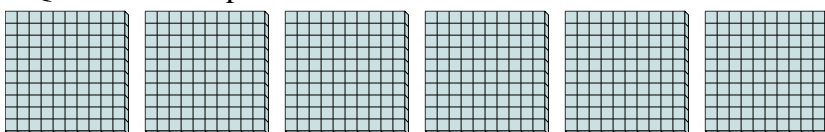
6) a. Quanti gruppi da 100 ci sono?

b. Quanti blocchi piccoli ci sono in tutto?



7) a. Quanti gruppi da 100 ci sono?

b. Quanti blocchi piccoli ci sono in tutto?



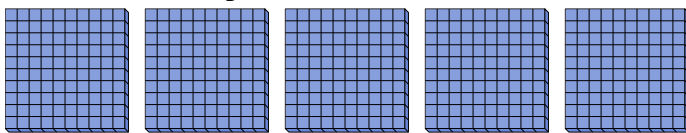


Usa i gruppi per rispondere ad ogni domanda.

Risposte

1) a. Quanti gruppi da 100 ci sono?

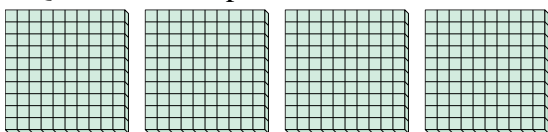
b. Quanti blocchi piccoli ci sono in tutto?



1. 5 500

2) a. Quanti gruppi da 100 ci sono?

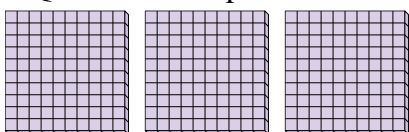
b. Quanti blocchi piccoli ci sono in tutto?



2. 4 400

3) a. Quanti gruppi da 100 ci sono?

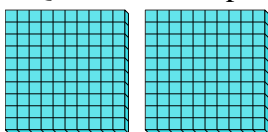
b. Quanti blocchi piccoli ci sono in tutto?



3. 3 300

4) a. Quanti gruppi da 100 ci sono?


b. Quanti blocchi piccoli ci sono in tutto?



4. 2 200

5) a. Quanti gruppi da 100 ci sono?


b. Quanti blocchi piccoli ci sono in tutto?



5. 9 900

6) a. Quanti gruppi da 100 ci sono?

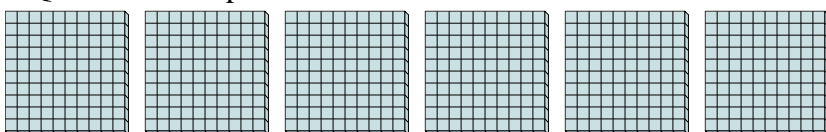
b. Quanti blocchi piccoli ci sono in tutto?



6. 1 100

7) a. Quanti gruppi da 100 ci sono?

b. Quanti blocchi piccoli ci sono in tutto?



7. 6 600