

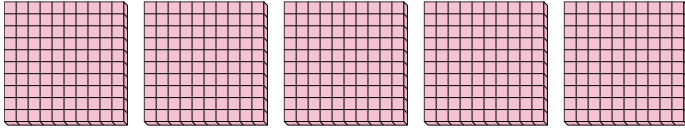


Usa i gruppi per rispondere ad ogni domanda.

**Risposte**

1) a. Quanti gruppi da 100 ci sono?

b. Quanti blocchi piccoli ci sono in tutto?




1. \_\_\_\_\_

2. \_\_\_\_\_

3. \_\_\_\_\_

2) a. Quanti gruppi da 100 ci sono?

b. Quanti blocchi piccoli ci sono in tutto?



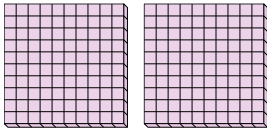
4. \_\_\_\_\_

5. \_\_\_\_\_

6. \_\_\_\_\_

3) a. Quanti gruppi da 100 ci sono?

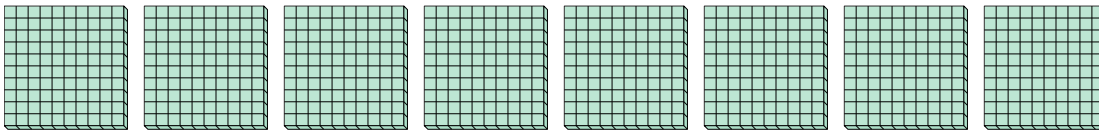
b. Quanti blocchi piccoli ci sono in tutto?



7. \_\_\_\_\_

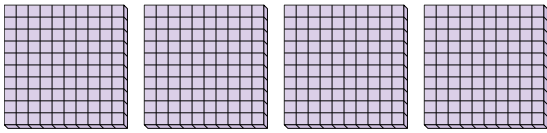
4) a. Quanti gruppi da 100 ci sono?

b. Quanti blocchi piccoli ci sono in tutto?



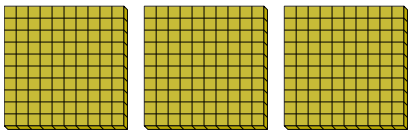
5) a. Quanti gruppi da 100 ci sono?

b. Quanti blocchi piccoli ci sono in tutto?




6) a. Quanti gruppi da 100 ci sono?

b. Quanti blocchi piccoli ci sono in tutto?



7) a. Quanti gruppi da 100 ci sono?

b. Quanti blocchi piccoli ci sono in tutto?



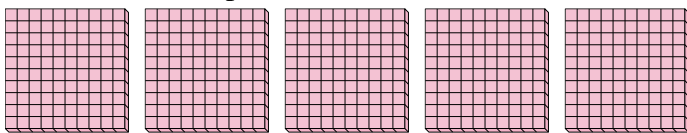


Usa i gruppi per rispondere ad ogni domanda.

**Risposte**

1) a. Quanti gruppi da 100 ci sono?

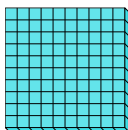
b. Quanti blocchi piccoli ci sono in tutto?



1. 5 500

2) a. Quanti gruppi da 100 ci sono?

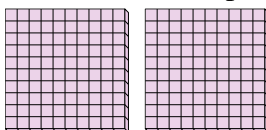
b. Quanti blocchi piccoli ci sono in tutto?



2. 1 100

3) a. Quanti gruppi da 100 ci sono?

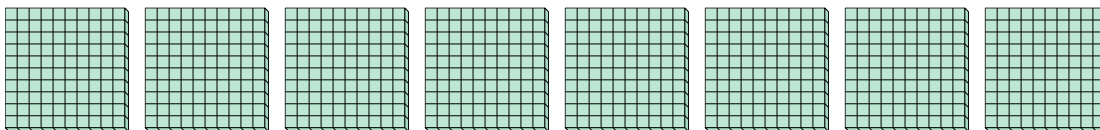
b. Quanti blocchi piccoli ci sono in tutto?



3. 2 200

4) a. Quanti gruppi da 100 ci sono?


b. Quanti blocchi piccoli ci sono in tutto?



4. 8 800

5) a. Quanti gruppi da 100 ci sono?

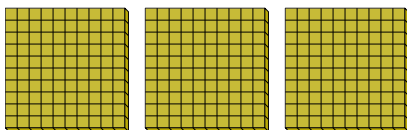
b. Quanti blocchi piccoli ci sono in tutto?



5. 4 400

6) a. Quanti gruppi da 100 ci sono?


b. Quanti blocchi piccoli ci sono in tutto?



6. 3 300

7) a. Quanti gruppi da 100 ci sono?

b. Quanti blocchi piccoli ci sono in tutto?



7. 7 700

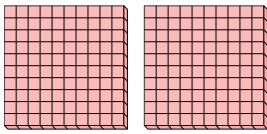


Usa i gruppi per rispondere ad ogni domanda.

**Risposte**

1) a. Quanti gruppi da 100 ci sono?

b. Quanti blocchi piccoli ci sono in tutto?

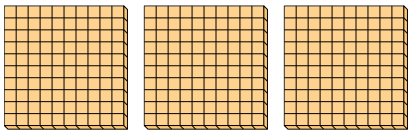


1. \_\_\_\_\_

2. \_\_\_\_\_

2) a. Quanti gruppi da 100 ci sono?

b. Quanti blocchi piccoli ci sono in tutto?




3. \_\_\_\_\_

4. \_\_\_\_\_

5. \_\_\_\_\_

3) a. Quanti gruppi da 100 ci sono?

b. Quanti blocchi piccoli ci sono in tutto?

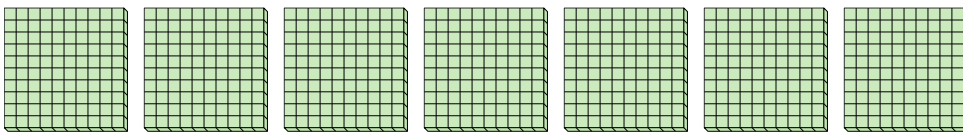


6. \_\_\_\_\_

7. \_\_\_\_\_

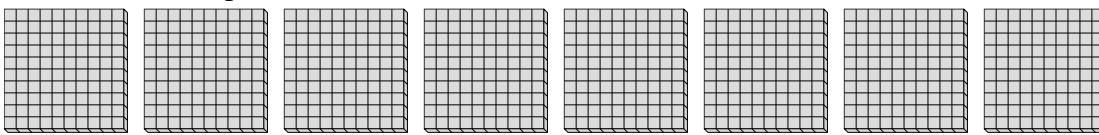
4) a. Quanti gruppi da 100 ci sono?

b. Quanti blocchi piccoli ci sono in tutto?



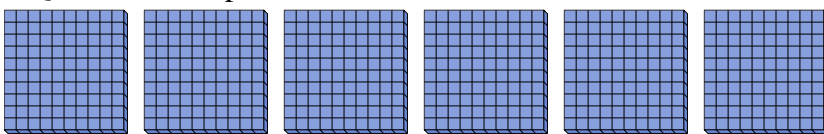
5) a. Quanti gruppi da 100 ci sono?

b. Quanti blocchi piccoli ci sono in tutto?



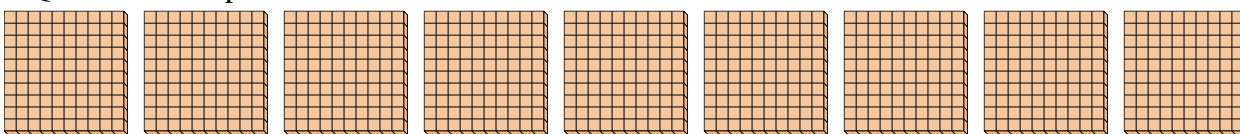
6) a. Quanti gruppi da 100 ci sono?

b. Quanti blocchi piccoli ci sono in tutto?



7) a. Quanti gruppi da 100 ci sono?

b. Quanti blocchi piccoli ci sono in tutto?



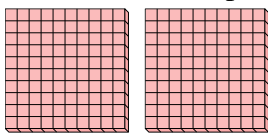


Usa i gruppi per rispondere ad ogni domanda.

**Risposte**

1) a. Quanti gruppi da 100 ci sono?

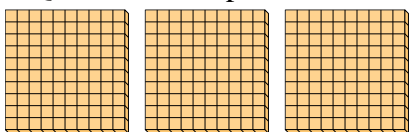
b. Quanti blocchi piccoli ci sono in tutto?



1. 2 200

2) a. Quanti gruppi da 100 ci sono?


b. Quanti blocchi piccoli ci sono in tutto?



2. 3 300

3) a. Quanti gruppi da 100 ci sono?

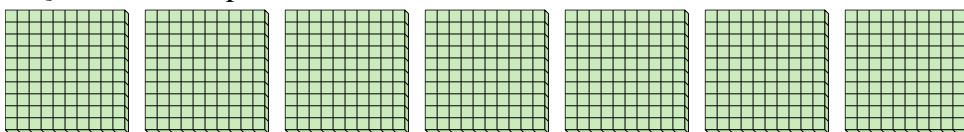
b. Quanti blocchi piccoli ci sono in tutto?



3. 5 500

4) a. Quanti gruppi da 100 ci sono?


b. Quanti blocchi piccoli ci sono in tutto?



4. 7 700

5) a. Quanti gruppi da 100 ci sono?

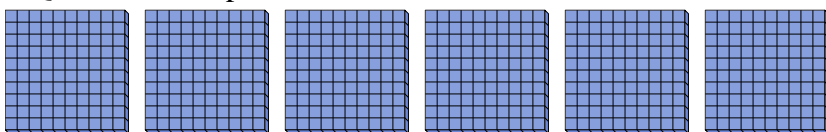
b. Quanti blocchi piccoli ci sono in tutto?



5. 8 800

6) a. Quanti gruppi da 100 ci sono?


b. Quanti blocchi piccoli ci sono in tutto?



6. 6 600

7) a. Quanti gruppi da 100 ci sono?

b. Quanti blocchi piccoli ci sono in tutto?



7. 9 900

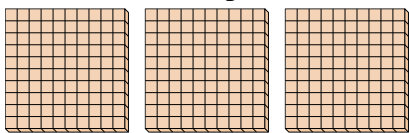


Usa i gruppi per rispondere ad ogni domanda.

**Risposte**

1) a. Quanti gruppi da 100 ci sono?

b. Quanti blocchi piccoli ci sono in tutto?




1. \_\_\_\_\_

2. \_\_\_\_\_

3. \_\_\_\_\_

2) a. Quanti gruppi da 100 ci sono?

b. Quanti blocchi piccoli ci sono in tutto?




4. \_\_\_\_\_

5. \_\_\_\_\_

6. \_\_\_\_\_

3) a. Quanti gruppi da 100 ci sono?

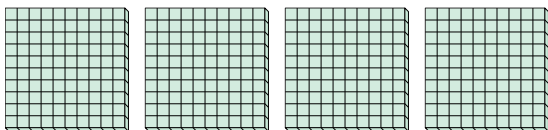
b. Quanti blocchi piccoli ci sono in tutto?



7. \_\_\_\_\_


4) a. Quanti gruppi da 100 ci sono?

b. Quanti blocchi piccoli ci sono in tutto?




5) a. Quanti gruppi da 100 ci sono?

b. Quanti blocchi piccoli ci sono in tutto?



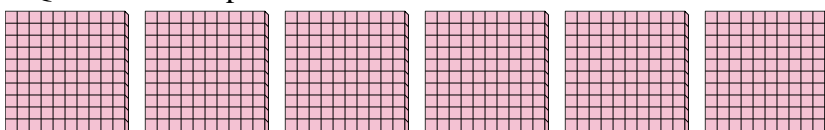
6) a. Quanti gruppi da 100 ci sono?

b. Quanti blocchi piccoli ci sono in tutto?



7) a. Quanti gruppi da 100 ci sono?

b. Quanti blocchi piccoli ci sono in tutto?



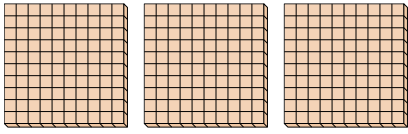


Usa i gruppi per rispondere ad ogni domanda.

**Risposte**

1) a. Quanti gruppi da 100 ci sono?

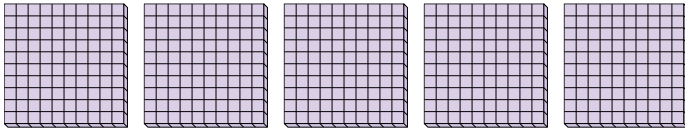
b. Quanti blocchi piccoli ci sono in tutto?



1. 3 300

2) a. Quanti gruppi da 100 ci sono?

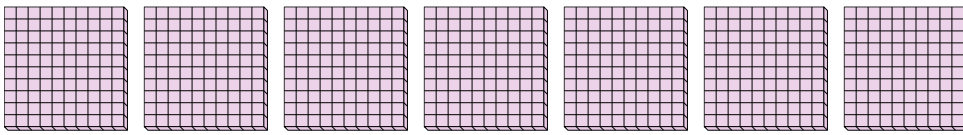
b. Quanti blocchi piccoli ci sono in tutto?



2. 5 500

3) a. Quanti gruppi da 100 ci sono?

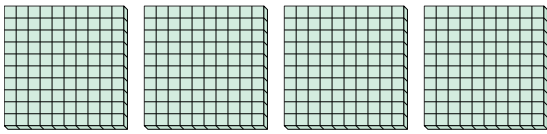
b. Quanti blocchi piccoli ci sono in tutto?



3. 7 700

4) a. Quanti gruppi da 100 ci sono?


b. Quanti blocchi piccoli ci sono in tutto?



4. 4 400

5) a. Quanti gruppi da 100 ci sono?

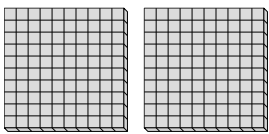
b. Quanti blocchi piccoli ci sono in tutto?



5. 9 900

6) a. Quanti gruppi da 100 ci sono?

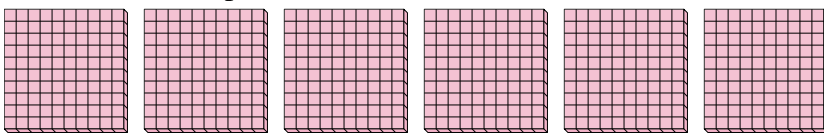
b. Quanti blocchi piccoli ci sono in tutto?



6. 2 200

7) a. Quanti gruppi da 100 ci sono?

b. Quanti blocchi piccoli ci sono in tutto?



7. 6 600




Usa i gruppi per rispondere ad ogni domanda.

**Risposte**

1) a. Quanti gruppi da 100 ci sono?

b. Quanti blocchi piccoli ci sono in tutto?

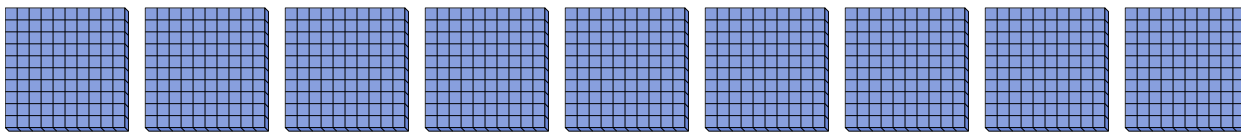


1. \_\_\_\_\_

2. \_\_\_\_\_

2) a. Quanti gruppi da 100 ci sono?

b. Quanti blocchi piccoli ci sono in tutto?




3. \_\_\_\_\_

4. \_\_\_\_\_

5. \_\_\_\_\_

3) a. Quanti gruppi da 100 ci sono?

b. Quanti blocchi piccoli ci sono in tutto?

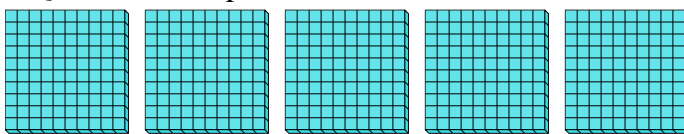


6. \_\_\_\_\_

7. \_\_\_\_\_

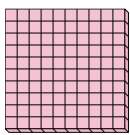
4) a. Quanti gruppi da 100 ci sono?

b. Quanti blocchi piccoli ci sono in tutto?



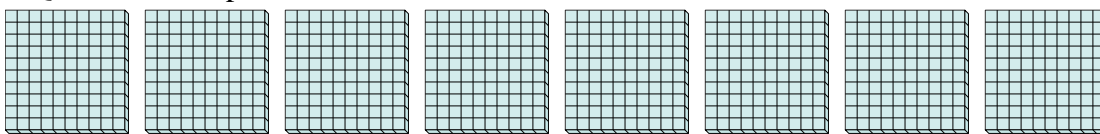
5) a. Quanti gruppi da 100 ci sono?

b. Quanti blocchi piccoli ci sono in tutto?



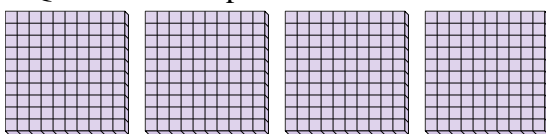
6) a. Quanti gruppi da 100 ci sono?

b. Quanti blocchi piccoli ci sono in tutto?



7) a. Quanti gruppi da 100 ci sono?

b. Quanti blocchi piccoli ci sono in tutto?






Usa i gruppi per rispondere ad ogni domanda.

**Risposte**

1) a. Quanti gruppi da 100 ci sono?

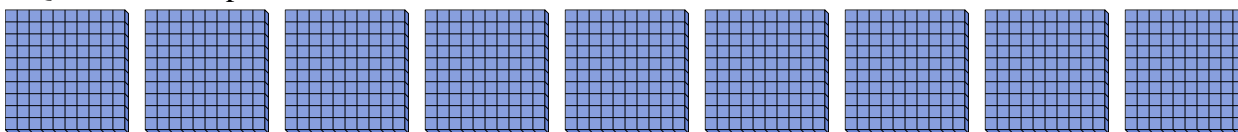
b. Quanti blocchi piccoli ci sono in tutto?



1. 6 600

2) a. Quanti gruppi da 100 ci sono?

b. Quanti blocchi piccoli ci sono in tutto?




2. 9 900

3. 3 300

4. 5 500

3) a. Quanti gruppi da 100 ci sono?

b. Quanti blocchi piccoli ci sono in tutto?




5. 1 100

6. 8 800

4) a. Quanti gruppi da 100 ci sono?


b. Quanti blocchi piccoli ci sono in tutto?



7. 4 400

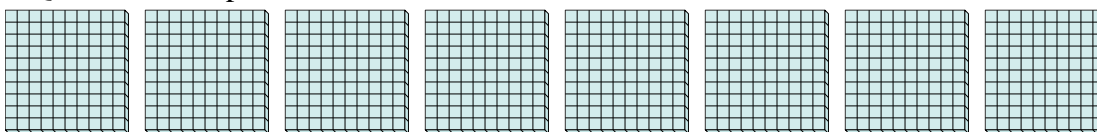
5) a. Quanti gruppi da 100 ci sono?

b. Quanti blocchi piccoli ci sono in tutto?



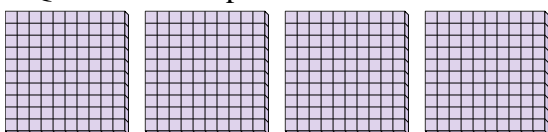
6) a. Quanti gruppi da 100 ci sono?

b. Quanti blocchi piccoli ci sono in tutto?



7) a. Quanti gruppi da 100 ci sono?

b. Quanti blocchi piccoli ci sono in tutto?





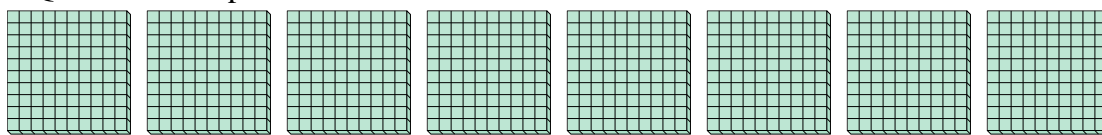


Usa i gruppi per rispondere ad ogni domanda.

**Risposte**

1) a. Quanti gruppi da 100 ci sono?

b. Quanti blocchi piccoli ci sono in tutto?



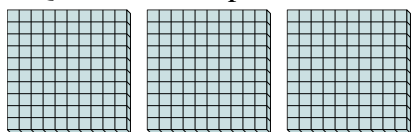
1. \_\_\_\_\_

2. \_\_\_\_\_

3. \_\_\_\_\_

2) a. Quanti gruppi da 100 ci sono?

b. Quanti blocchi piccoli ci sono in tutto?



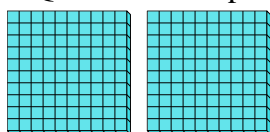
4. \_\_\_\_\_

5. \_\_\_\_\_

6. \_\_\_\_\_

3) a. Quanti gruppi da 100 ci sono?

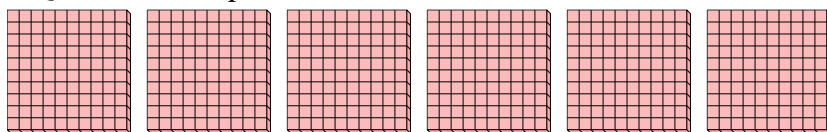
b. Quanti blocchi piccoli ci sono in tutto?



7. \_\_\_\_\_


4) a. Quanti gruppi da 100 ci sono?

b. Quanti blocchi piccoli ci sono in tutto?



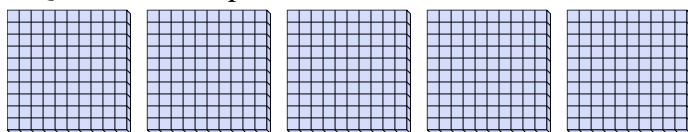
5) a. Quanti gruppi da 100 ci sono?

b. Quanti blocchi piccoli ci sono in tutto?



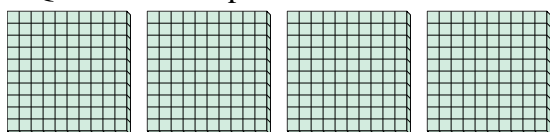
6) a. Quanti gruppi da 100 ci sono?

b. Quanti blocchi piccoli ci sono in tutto?



7) a. Quanti gruppi da 100 ci sono?

b. Quanti blocchi piccoli ci sono in tutto?



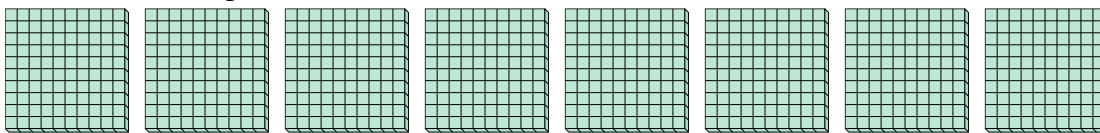


Usa i gruppi per rispondere ad ogni domanda.

**Risposte**

1) a. Quanti gruppi da 100 ci sono?

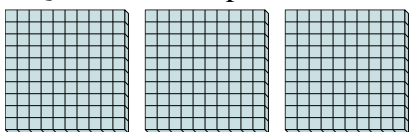
b. Quanti blocchi piccoli ci sono in tutto?



1. 8 800

2) a. Quanti gruppi da 100 ci sono?

b. Quanti blocchi piccoli ci sono in tutto?

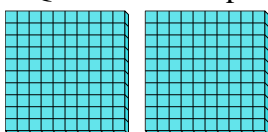


2. 3 300

3. 2 200

3) a. Quanti gruppi da 100 ci sono?

b. Quanti blocchi piccoli ci sono in tutto?



4. 6 600

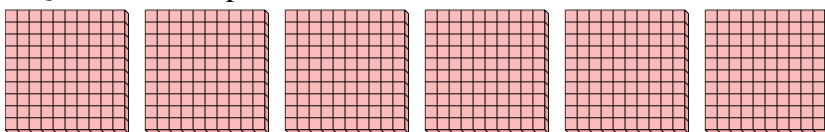
5. 7 700

6. 5 500

7. 4 400


4) a. Quanti gruppi da 100 ci sono?

b. Quanti blocchi piccoli ci sono in tutto?



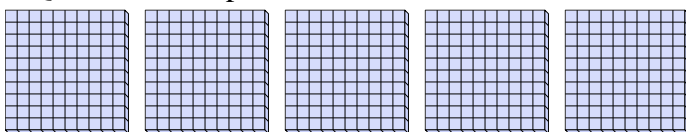
5) a. Quanti gruppi da 100 ci sono?

b. Quanti blocchi piccoli ci sono in tutto?



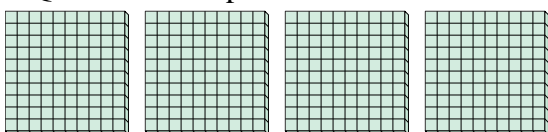
6) a. Quanti gruppi da 100 ci sono?

b. Quanti blocchi piccoli ci sono in tutto?



7) a. Quanti gruppi da 100 ci sono?

b. Quanti blocchi piccoli ci sono in tutto?



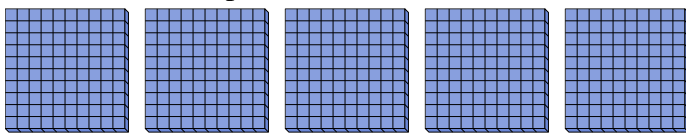


Usa i gruppi per rispondere ad ogni domanda.

**Risposte**

1) a. Quanti gruppi da 100 ci sono?

b. Quanti blocchi piccoli ci sono in tutto?



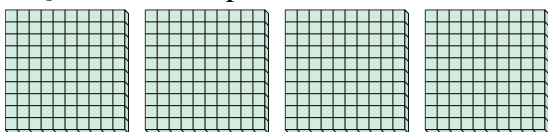
1. \_\_\_\_\_

2. \_\_\_\_\_

3. \_\_\_\_\_

2) a. Quanti gruppi da 100 ci sono?

b. Quanti blocchi piccoli ci sono in tutto?



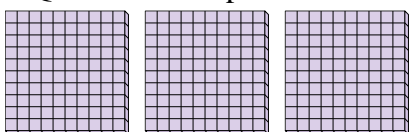
4. \_\_\_\_\_

5. \_\_\_\_\_

6. \_\_\_\_\_

3) a. Quanti gruppi da 100 ci sono?

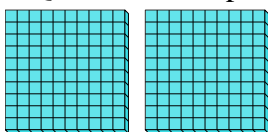
b. Quanti blocchi piccoli ci sono in tutto?



7. \_\_\_\_\_


4) a. Quanti gruppi da 100 ci sono?

b. Quanti blocchi piccoli ci sono in tutto?




5) a. Quanti gruppi da 100 ci sono?

b. Quanti blocchi piccoli ci sono in tutto?



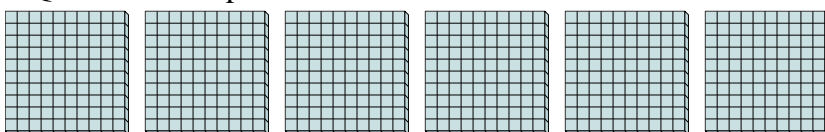
6) a. Quanti gruppi da 100 ci sono?

b. Quanti blocchi piccoli ci sono in tutto?



7) a. Quanti gruppi da 100 ci sono?

b. Quanti blocchi piccoli ci sono in tutto?



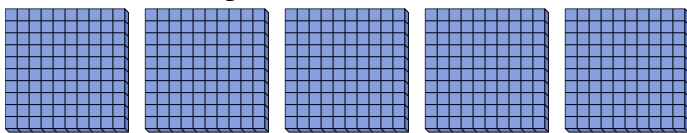


Usa i gruppi per rispondere ad ogni domanda.

**Risposte**

1) a. Quanti gruppi da 100 ci sono?

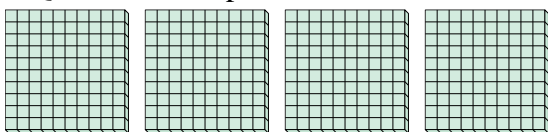
b. Quanti blocchi piccoli ci sono in tutto?



1. 5 500

2) a. Quanti gruppi da 100 ci sono?

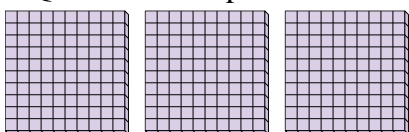
b. Quanti blocchi piccoli ci sono in tutto?



2. 4 400

3) a. Quanti gruppi da 100 ci sono?

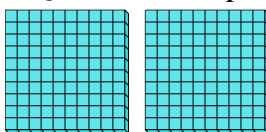
b. Quanti blocchi piccoli ci sono in tutto?



3. 3 300

4) a. Quanti gruppi da 100 ci sono?


b. Quanti blocchi piccoli ci sono in tutto?



4. 2 200

5) a. Quanti gruppi da 100 ci sono?

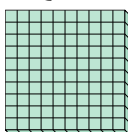
b. Quanti blocchi piccoli ci sono in tutto?



5. 9 900

6) a. Quanti gruppi da 100 ci sono?

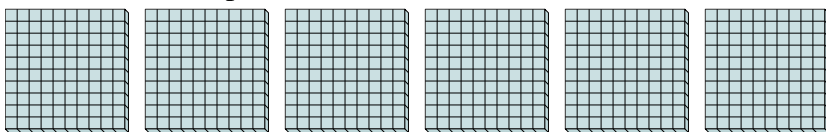
b. Quanti blocchi piccoli ci sono in tutto?



6. 1 100

7) a. Quanti gruppi da 100 ci sono?

b. Quanti blocchi piccoli ci sono in tutto?



7. 6 600

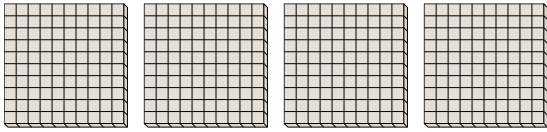


Usa i gruppi per rispondere ad ogni domanda.

**Risposte**

1) a. Quanti gruppi da 100 ci sono?

b. Quanti blocchi piccoli ci sono in tutto?



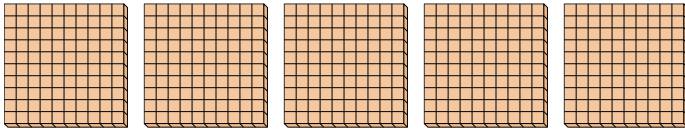
1. \_\_\_\_\_

2. \_\_\_\_\_

3. \_\_\_\_\_

2) a. Quanti gruppi da 100 ci sono?

b. Quanti blocchi piccoli ci sono in tutto?




4. \_\_\_\_\_

5. \_\_\_\_\_

6. \_\_\_\_\_

3) a. Quanti gruppi da 100 ci sono?


b. Quanti blocchi piccoli ci sono in tutto?



7. \_\_\_\_\_

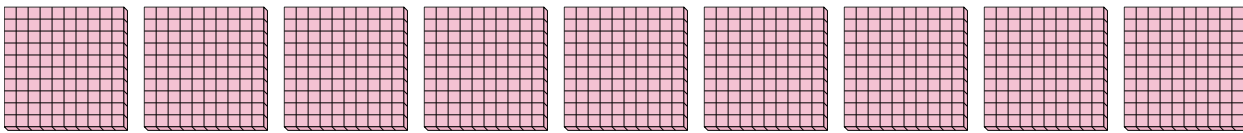
4) a. Quanti gruppi da 100 ci sono?

b. Quanti blocchi piccoli ci sono in tutto?



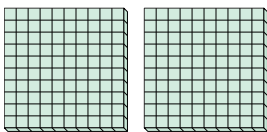
5) a. Quanti gruppi da 100 ci sono?

b. Quanti blocchi piccoli ci sono in tutto?



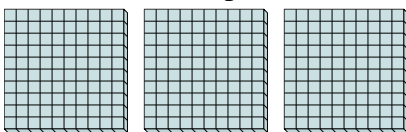
6) a. Quanti gruppi da 100 ci sono?

b. Quanti blocchi piccoli ci sono in tutto?



7) a. Quanti gruppi da 100 ci sono?

b. Quanti blocchi piccoli ci sono in tutto?






Usa i gruppi per rispondere ad ogni domanda.

**Risposte**

1) a. Quanti gruppi da 100 ci sono?

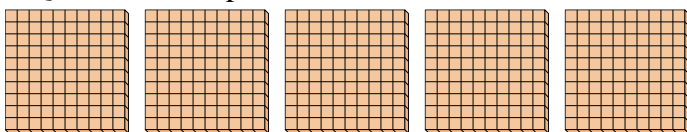
b. Quanti blocchi piccoli ci sono in tutto?



1. 4 400

2) a. Quanti gruppi da 100 ci sono?

b. Quanti blocchi piccoli ci sono in tutto?




2. 5 500

3. 1 100

3) a. Quanti gruppi da 100 ci sono?

b. Quanti blocchi piccoli ci sono in tutto?



4. 8 800


5. 9 900

6. 2 200

7. 3 300


4) a. Quanti gruppi da 100 ci sono?

b. Quanti blocchi piccoli ci sono in tutto?



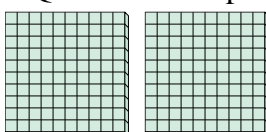
5) a. Quanti gruppi da 100 ci sono?

b. Quanti blocchi piccoli ci sono in tutto?



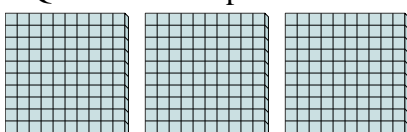
6) a. Quanti gruppi da 100 ci sono?

b. Quanti blocchi piccoli ci sono in tutto?



7) a. Quanti gruppi da 100 ci sono?

b. Quanti blocchi piccoli ci sono in tutto?






Usa i gruppi per rispondere ad ogni domanda.

**Risposte**

1) a. Quanti gruppi da 100 ci sono?

b. Quanti blocchi piccoli ci sono in tutto?



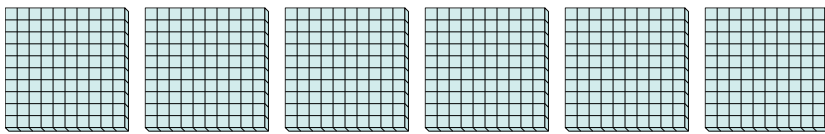
1. \_\_\_\_ \_\_\_\_

2. \_\_\_\_ \_\_\_\_

3. \_\_\_\_ \_\_\_\_

2) a. Quanti gruppi da 100 ci sono?

b. Quanti blocchi piccoli ci sono in tutto?



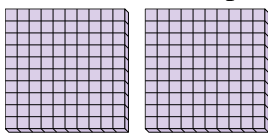
4. \_\_\_\_ \_\_\_\_

5. \_\_\_\_ \_\_\_\_

6. \_\_\_\_ \_\_\_\_

3) a. Quanti gruppi da 100 ci sono?

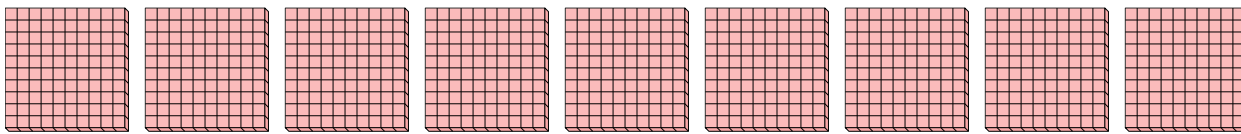
b. Quanti blocchi piccoli ci sono in tutto?



7. \_\_\_\_ \_\_\_\_

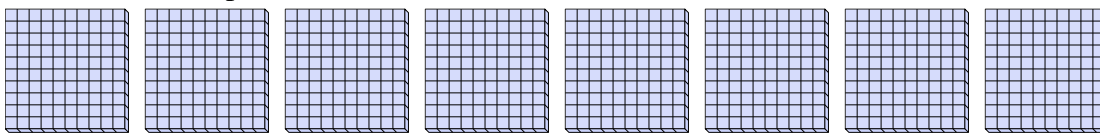
4) a. Quanti gruppi da 100 ci sono?

b. Quanti blocchi piccoli ci sono in tutto?




5) a. Quanti gruppi da 100 ci sono?

b. Quanti blocchi piccoli ci sono in tutto?



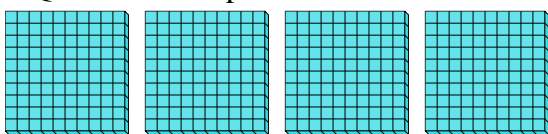
6) a. Quanti gruppi da 100 ci sono?

b. Quanti blocchi piccoli ci sono in tutto?



7) a. Quanti gruppi da 100 ci sono?

b. Quanti blocchi piccoli ci sono in tutto?






Usa i gruppi per rispondere ad ogni domanda.

**Risposte**

1) a. Quanti gruppi da 100 ci sono?

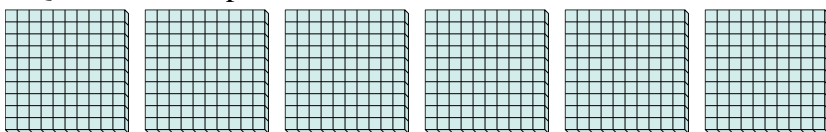
b. Quanti blocchi piccoli ci sono in tutto?



1.   3    300 

2) a. Quanti gruppi da 100 ci sono?


b. Quanti blocchi piccoli ci sono in tutto?



2.   6    600 

3) a. Quanti gruppi da 100 ci sono?


b. Quanti blocchi piccoli ci sono in tutto?



3.   2    200 

4) a. Quanti gruppi da 100 ci sono?

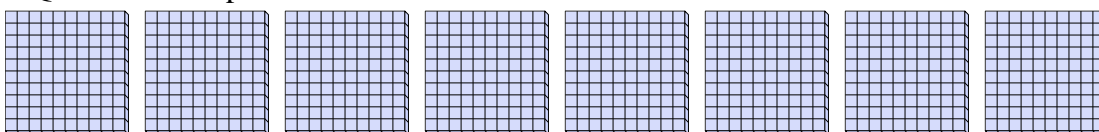
b. Quanti blocchi piccoli ci sono in tutto?



4.   9    900 

5) a. Quanti gruppi da 100 ci sono?


b. Quanti blocchi piccoli ci sono in tutto?



5.   8    800 

6) a. Quanti gruppi da 100 ci sono?

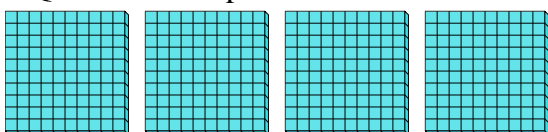
b. Quanti blocchi piccoli ci sono in tutto?



6.   1    100 

7) a. Quanti gruppi da 100 ci sono?

b. Quanti blocchi piccoli ci sono in tutto?



7.   4    400



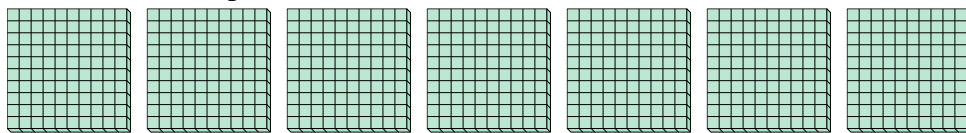


Usa i gruppi per rispondere ad ogni domanda.

**Risposte**

1) a. Quanti gruppi da 100 ci sono?

b. Quanti blocchi piccoli ci sono in tutto?



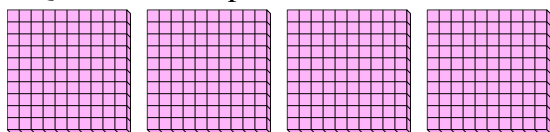
1. \_\_\_\_\_

2. \_\_\_\_\_

3. \_\_\_\_\_

2) a. Quanti gruppi da 100 ci sono?

b. Quanti blocchi piccoli ci sono in tutto?



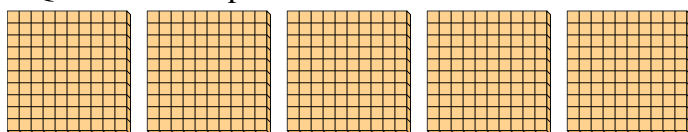
4. \_\_\_\_\_

5. \_\_\_\_\_

6. \_\_\_\_\_

3) a. Quanti gruppi da 100 ci sono?

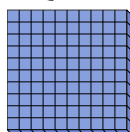
b. Quanti blocchi piccoli ci sono in tutto?



7. \_\_\_\_\_

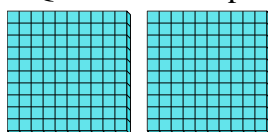
4) a. Quanti gruppi da 100 ci sono?

b. Quanti blocchi piccoli ci sono in tutto?




5) a. Quanti gruppi da 100 ci sono?

b. Quanti blocchi piccoli ci sono in tutto?



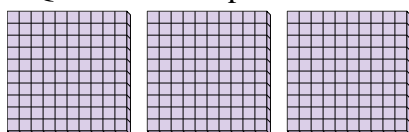
6) a. Quanti gruppi da 100 ci sono?

b. Quanti blocchi piccoli ci sono in tutto?



7) a. Quanti gruppi da 100 ci sono?

b. Quanti blocchi piccoli ci sono in tutto?

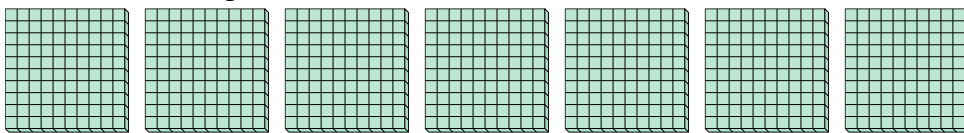




Usa i gruppi per rispondere ad ogni domanda.

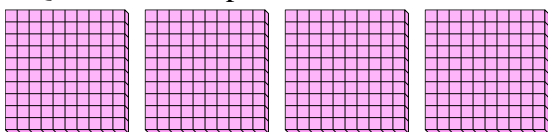
1) a. Quanti gruppi da 100 ci sono?

b. Quanti blocchi piccoli ci sono in tutto?



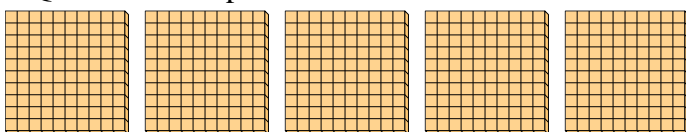
2) a. Quanti gruppi da 100 ci sono?

b. Quanti blocchi piccoli ci sono in tutto?



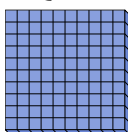
3) a. Quanti gruppi da 100 ci sono?

b. Quanti blocchi piccoli ci sono in tutto?



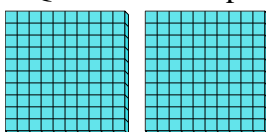
4) a. Quanti gruppi da 100 ci sono?

b. Quanti blocchi piccoli ci sono in tutto?



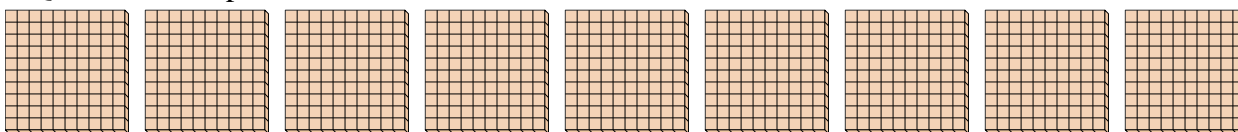
5) a. Quanti gruppi da 100 ci sono?

b. Quanti blocchi piccoli ci sono in tutto?




6) a. Quanti gruppi da 100 ci sono?

b. Quanti blocchi piccoli ci sono in tutto?



7) a. Quanti gruppi da 100 ci sono?

b. Quanti blocchi piccoli ci sono in tutto?



**Risposte**

1. 7 700

2. 4 400

3. 5 500

4. 1 100

5. 2 200

6. 9 900

7. 3 300

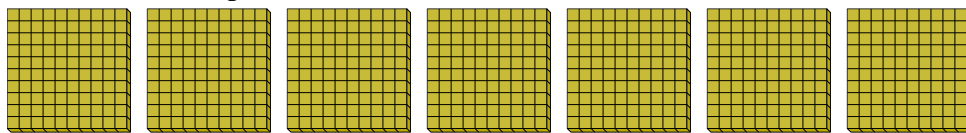


Usa i gruppi per rispondere ad ogni domanda.

**Risposte**

1) a. Quanti gruppi da 100 ci sono?

b. Quanti blocchi piccoli ci sono in tutto?




1. \_\_\_\_\_

2. \_\_\_\_\_

3. \_\_\_\_\_

2) a. Quanti gruppi da 100 ci sono?

b. Quanti blocchi piccoli ci sono in tutto?



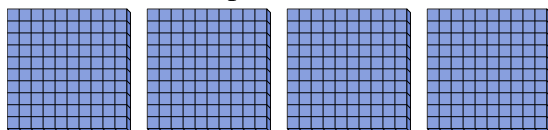
4. \_\_\_\_\_

5. \_\_\_\_\_

6. \_\_\_\_\_

3) a. Quanti gruppi da 100 ci sono?

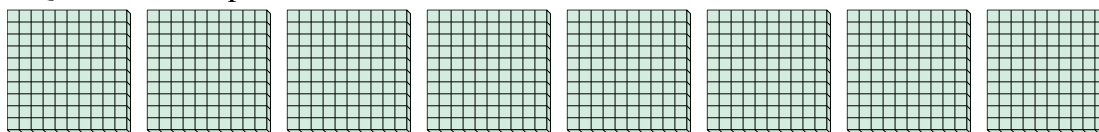
b. Quanti blocchi piccoli ci sono in tutto?



7. \_\_\_\_\_

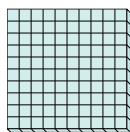
4) a. Quanti gruppi da 100 ci sono?

b. Quanti blocchi piccoli ci sono in tutto?



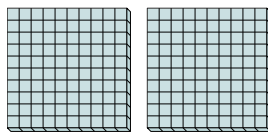
5) a. Quanti gruppi da 100 ci sono?

b. Quanti blocchi piccoli ci sono in tutto?



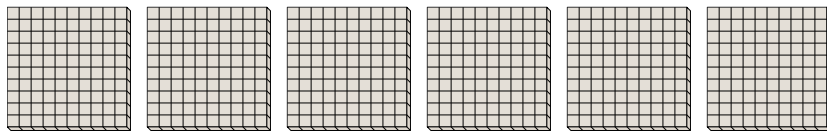
6) a. Quanti gruppi da 100 ci sono?

b. Quanti blocchi piccoli ci sono in tutto?



7) a. Quanti gruppi da 100 ci sono?

b. Quanti blocchi piccoli ci sono in tutto?



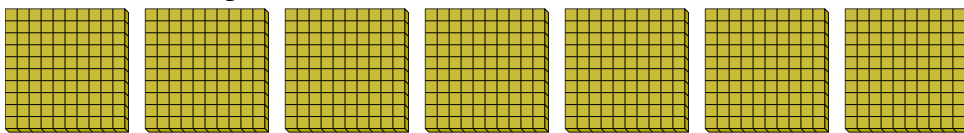


Usa i gruppi per rispondere ad ogni domanda.

**Risposte**

1) a. Quanti gruppi da 100 ci sono?


b. Quanti blocchi piccoli ci sono in tutto?



1. 7 700

2) a. Quanti gruppi da 100 ci sono?

b. Quanti blocchi piccoli ci sono in tutto?

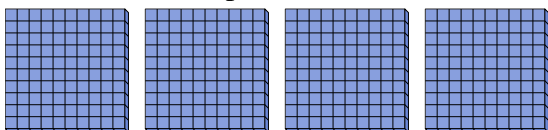


2. 9 900

3. 4 400

3) a. Quanti gruppi da 100 ci sono?

b. Quanti blocchi piccoli ci sono in tutto?

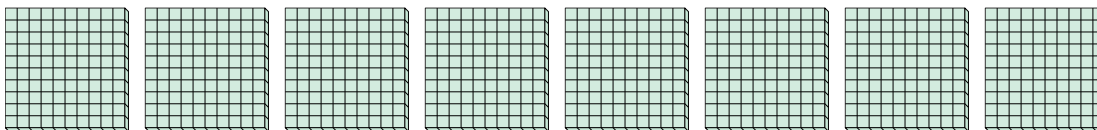


4. 8 800

5. 1 100

4) a. Quanti gruppi da 100 ci sono?

b. Quanti blocchi piccoli ci sono in tutto?

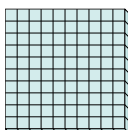


6. 2 200

7. 6 600

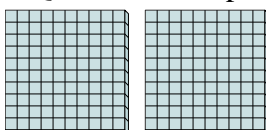
5) a. Quanti gruppi da 100 ci sono?

b. Quanti blocchi piccoli ci sono in tutto?



6) a. Quanti gruppi da 100 ci sono?

b. Quanti blocchi piccoli ci sono in tutto?



7) a. Quanti gruppi da 100 ci sono?

b. Quanti blocchi piccoli ci sono in tutto?

